


NOMBRE:

CAPACIDAD.

FECHA: - -

# - EL LITRO -

 Dibuja los envases que te dan cuando compras .....

1 LITRO DE LECHE



1 LITRO DE VINO




1 LITRO DE ACEITE



¿ Tienen los 3 envases la misma capacidad ? .....

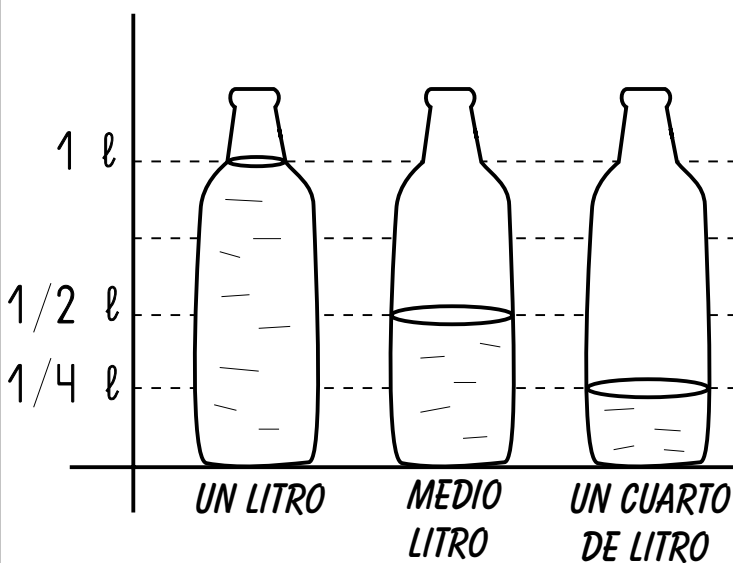
¿ Tienen los 3 envases la misma forma ? .....

 Escribe el nombre de 3 recipientes que puedan contener más de un litro y de otros 3 que contengan menos de un litro.

MÁS DE 1 LITRO : .....

MENOS DE 1 LITRO : .....

 Observa y completa:



En un litro hay ..... medios litros.

En un litro hay ..... cuartos de litro.

En medio litro hay ..... cuartos de litro.

Dos medios litros hacen ..... litro.

Dos cuartos de litro hacen ..... litro.

Cuatro cuartos de litro hacen ..... litro.

¿ Cómo se escribe en matemáticas la palabra "medio" ? .....

¿ Cómo se escribe en matemáticas la palabra "cuarto" ? .....