



Nombre y apellidos: .....

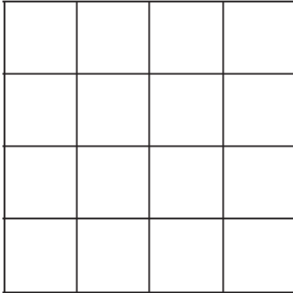
Fecha: .....

Matemáticas 2.º .....

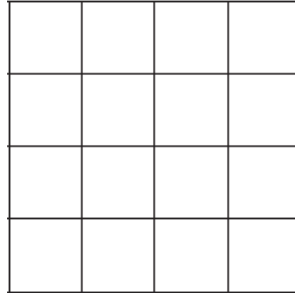


1 Coloca en vertical y calcula.

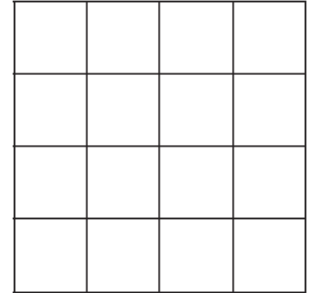
$11 \times 5$



$32 \times 3$



$21 \times 4$



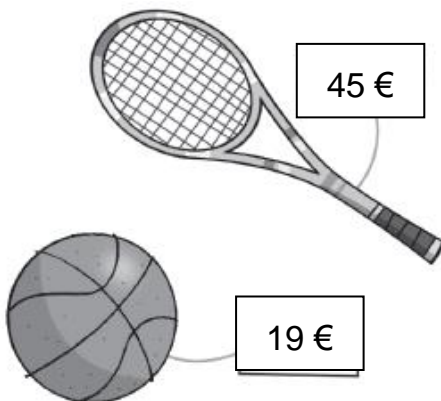
2. Calcula, sumando y multiplicando, los ojos de los monstruos.



$\square + \square + \square = \square$

$\square \times \square = \square$

3. Juan tenía 120 €. Compró una raqueta por 45 € y un balón por 19 €. ¿Cuánto dinero le sobró?



► A Juan le sobraron                  euros.



Nombre y apellidos: .....

Fecha: .....

Matemáticas 2.º .....



4. Resta y haz la prueba para ver si el resultado es correcto.

$$\begin{array}{r} 541 \\ - 207 \\ \hline \end{array}$$


$$\begin{array}{r} 250 \\ - 83 \\ \hline \end{array}$$


5. Escribe el resultado.

$7 \times 7 =$

$7 \times 4 =$

$7 \times 6 =$

$7 \times 9 =$

$6 \times 2 =$

$6 \times 5 =$

$6 \times 9 =$

$6 \times 8 =$

$6 \times 3 =$

$6 \times 6 =$