



CUADERNILLO DE MATES

CEIP Padre Manjón

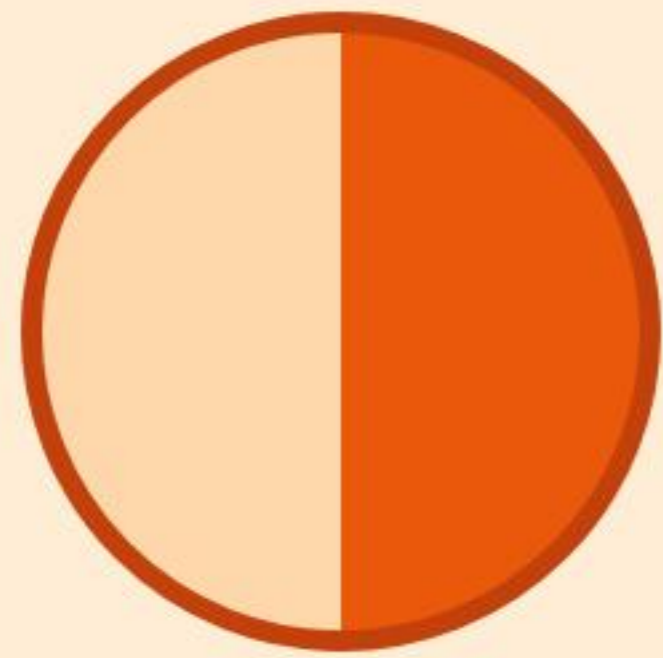
Benahadux - 4º de Primaria





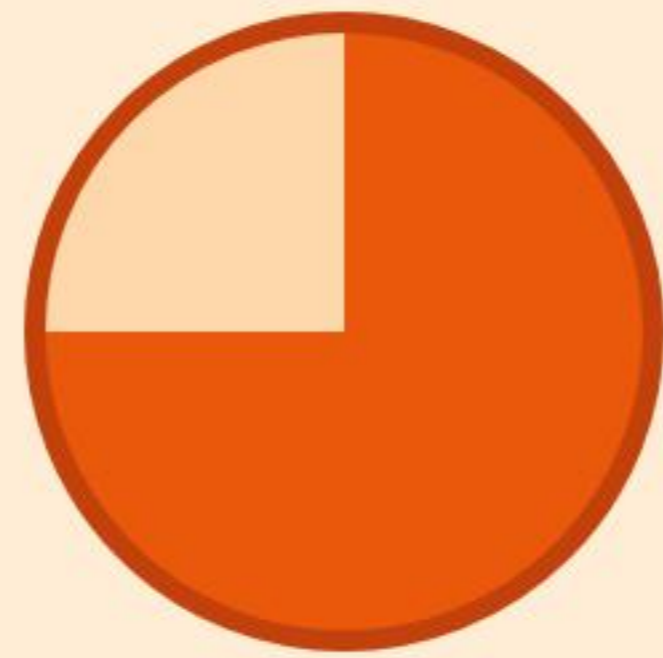
SITUACIÓN 5: Fracciones

El viernes pedimos pizza en clase. Observa los dibujos de abajo y **escribe la fracción** que representa la cantidad de pizza (la de color naranja) que nos hemos comido en cada caso.



Fracción:

$\frac{\quad}{\quad}$




Fracción:

$\frac{\quad}{\quad}$





SITUACIÓN 7: EL Patio



¿Calculamos el perímetro?

La pista de baloncesto del colegio tiene forma rectangular. Mide **28 metros** de largo y **15 metros** de ancho.

Si el profesor de Educación Física os manda dar una vuelta completa alrededor de toda la línea de la pista...
¿Cuántos metros habréis corrido?

Perímetro = metros.

¡RETO SUPERADO!



Has demostrado ser un crack de 4º.

¡EL CEIP Padre Manjón está muy orgulloso de ti!