

4

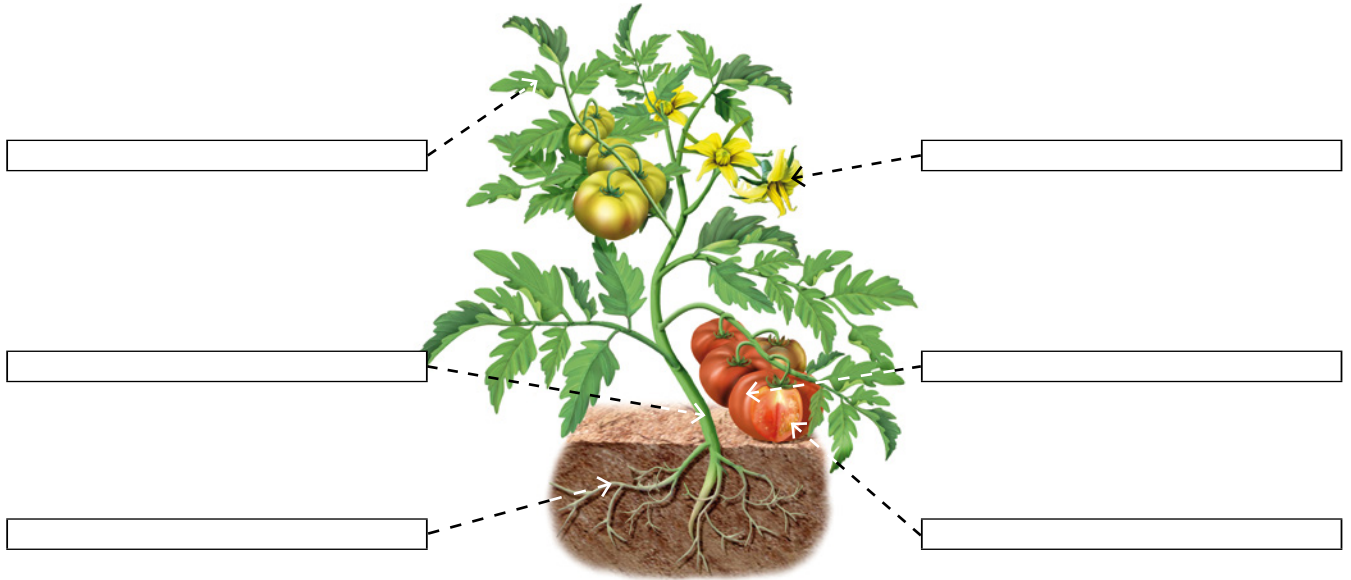
Nombre y apellidos: _____

Fecha: _____


Ciencias de la Naturaleza 2.º

EV

1 Observa y escribe los nombres de las partes señaladas.



2 Observa y escribe el nombre de cada planta en su lugar.



Sin flores,
sin frutos y
sin semillas

Con flores,
con frutos y
con semillas

Sin flores,
sin frutos y
con semillas

<input type="text"/>	<input type="text"/>	<input type="text"/>
<input type="text"/>	<input type="text"/>	<input type="text"/>

3 Escribe **V** si la frase es verdadera o **F** si es falsa.

– La semilla se transforma en fruto.

– Dentro del fruto están las semillas.


– Cuando las semillas germinan, dan lugar a una planta hija.

4 Escribe tres productos que obtenemos de las plantas.

5 Observa la imagen y marca las características que correspondan a este medio. Después, rodea los seres vivos que pueden vivir en él.



- Es un medio acuático.
- Es un medio terrestre.
- Hace mucho calor.
- Hace frío y nieva en invierno.
- Llueve muy poco.



6 Relaciona.

Contaminación

Peligro de extinción

Acumulación de residuos

Algunos seres vivos pueden desaparecer.

Producimos mucha basura y la tiramos en la naturaleza.

Las fábricas y las máquinas expulsan humos al aire.