

SEMANA DEL 8 AL 12 DE JUNIO



LUNES, 8 de junio

Para las **dos semanas** que quedan os he buscado un cuento y espero que os guste:

“**Clarita se volvió invisible**”. Con este libro finalizaremos el taller de lectura comprensiva.

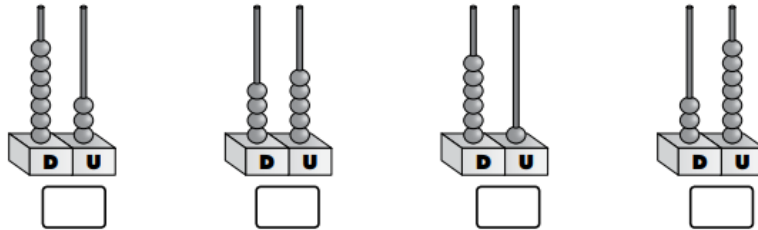
LENGUA: Escribiremos los pasos para realizar una tarea cotidiana como es lavar la ropa, en la pág. 241 y veremos qué hemos aprendido en la pág. 244.

MATEMÁTICAS: Vamos a reflexionar sobre lo que hemos aprendido en esta unidad y completaremos la pág. 226.

MARTES, 9 de junio

MATEMÁTICAS: Ficha de repaso. Podéis hacerla en la libreta, no hay que imprimir.

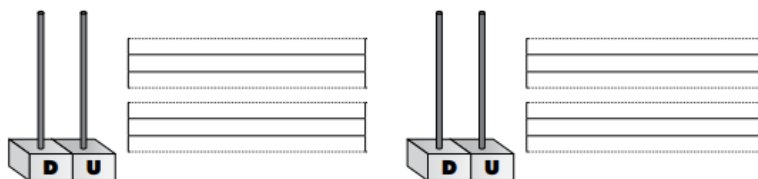
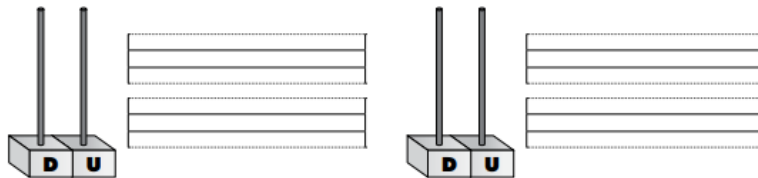
1 Escribe los números que representan estos ábacos.



Escribe el número mayor y el número menor.

2 Representa estos números en los ábacos y escribe sus nombres.

64 49 56 71



LENGUA: NO HAY QUE IMPRIMIR. PODÉIS HACERLO EN LA LIBRETA.

Lee y realiza las actividades.

★
★ Esta es la historia de los traspies de Alicia Paf,
que, paf, se caía siempre y por todas partes.
★
★ El abuelo iba a buscarla para llevarla al parque.
★
★ —¡Alicia! ¿Dónde estás, Alicia?
★
★ —Estoy aquí, abuelo.
★
★ —¿Dónde?
★
★ —En el despertador.
★
★



Gianni Rodari: *Los traspies de Alicia Paf*. Ed. Anaya.

• Rodea las comas de color azul. ¿Cuántas hay?

• Rodea los puntos de color verde. ¿Cuántos hay?

• Colorea la opción que tiene signos de exclamación.

¿En el despertador?

¡Alicia!

Estoy aquí.

• Copia una oración con signos de interrogación.

MIÉRCOLES, 10 de junio

LENGUA: Hacemos el repaso trimestral de las págs. 246-247.

MATEMÁTICAS: Repaso trimestral de las págs. 228-229.

C. SOCIALES: Completaremos datos sobre nuestra historia personal en las págs. 100 y 101.

JUEVES, 11 de junio


LENGUA: SEGUIMOS REPASANDO. NO ES NECESARIO IMPRIMIR.


Escribe el signo de puntuación que corresponda (, . ¿? ¡!).


Lucía se despertó bruscamente, nerviosa agitada y empapada en sudor Rápidamente encendió la luz, se incorporó y miró a su alrededor Todo estaba revuelto Qué había pasado durante la noche De pronto pensó: Qué miedo

Lee y ordena las instrucciones del juego de Tres en raya.

- Por turnos, cada jugador pone su símbolo, una X o un O, intentando hacer una línea vertical, horizontal o diagonal.


- Gana el jugador que consigue poner tres fichas de su color en línea, horizontal, vertical o diagonalmente.


- En un papel se hacen dos líneas horizontales y dos verticales, formando una cuadrícula de nueve espacios.



MATEMÁTICAS: Terminamos el repaso trimestral con las págs. 230 y 231.

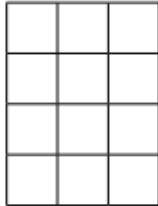
VIERNES, 12 de junio

LENGUA: Escribe una receta de cocina indicando los ingredientes, utensilios y pasos necesarios para prepararla. Ilustrarlo todo con dibujos.

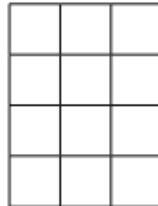
MATEMÁTICAS: REPASAMOS. NO ES NECESARIO IMPRIMIR.

Realiza estas operaciones. Rodea el resultado mayor y el menor y represéntalos en los ábacos.

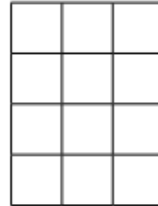
$18 + 33$



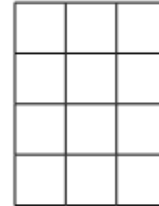
$7 + 45$



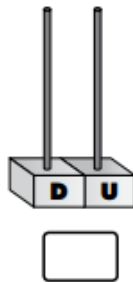
$56 - 34$



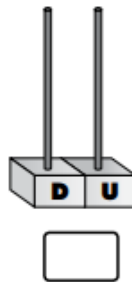
$97 - 54$



Mayor




Menor



Completa.




Son las



Son las 3
y media.



Son las



VALORES SOCIALES Y CÍVICOS: Seguimos recordando a nuestros abuelos y completamos la pág. 53.

¡¡OS DESEO UN FELIZ FIN DE SEMANA!!

