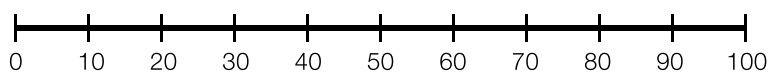


Aproximaciones

Nombre _____ Fecha _____

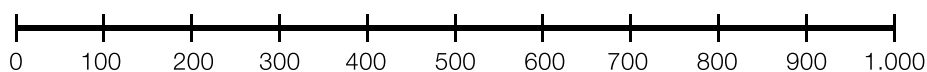
1 Con ayuda de las rectas aproxima cada número al orden que se indica.

- A las decenas



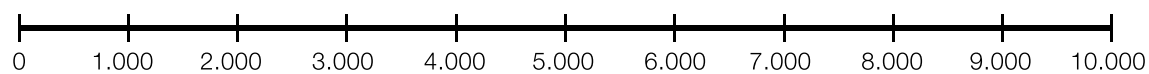
76 ► 94 ► 43 ► 58 ►

- A las centenas



245 ► 380 ► 564 ►

- A los millares



2.320 ► 6.780 ► 8.290 ►

Mate+

2 ¿Dónde vive cada uno? Lee y escribe sus nombres donde corresponda.

Marcos, Paula, Andrea y Jorge han quedado en la plaza. Paula camina 1.000 metros aproximadamente desde su casa hasta la plaza. Andrea vive más cerca y solo tiene que recorrer unos 400 metros. La casa de Jorge está más o menos a 700 metros de la plaza y la de Marcos, a unos 2.000.

