

## ACTIVIDADES DE REFUERZO PARA PRIMER CURSO

¡Hola!

¿Cómo va todo?

Esperamos que vaya todo muy bien por casa.

Hoy vamos a jugar un poco con las UNIDADES DE TIEMPO.

1 AÑO	→	12 MESES
1 MES	→	4 SEMANAS
1 SEMANA	→	7 DÍAS
1 DÍA	→	24 HORAS
1 HORA	→	60 MINUTOS
1 MINUTO	→	60 SEGUNDOS

Copia y completa estas oraciones en tu cuaderno:

Un año tiene doce meses.

Un mes tiene cuatro semanas aproximadamente.

Una semana tiene siete días.

Un día tiene veinticuatro horas.

Una hora tiene sesenta minutos.

Un minuto tiene sesenta segundos.

# PROBLEMAS CON AÑOS

## EJEMPLO DE PROBLEMA RESUELTO

DATO

La Educación Primaria dura 6 años y

DATO

tú ya llevas un año en la escuela.

¿Cuántos años te quedan?

PREGUNTA

Datos:

- La Educación Primaria dura 6 años
- Llevo 1 año en la escuela.

Operación:

$$6 - 1 = 5$$

RESTA

Solución:

Me quedan cinco años.

Copia y resuelve este problema en tu cuaderno

## PROBLEMA

Me llamo Fernando y tengo 7 años.

Mi hermana Pepita tiene 5 años.


¿Cuántos años nos llevamos?



### Datos:

- Tengo 7 años
- Mi hermana tiene 5 años.

### Operación:



### Solución:

Nos llevamos \_\_\_\_\_ años.

¡ Escribe con letra este número !

# PROBLEMAS CON MESES Y DÍAS

## EJEMPLO DE PROBLEMA RESUELTO

DATO

El mes de mayo tiene 31 días.

DATO

El mes de junio tiene 30 días.

¿Cuántos días suman entre los dos?

PREGUNTA

Datos:

- El mes de mayo tiene 31 días.
- El mes de junio tiene 30 días.

Operación:

SUMA

$$\begin{array}{r} 31 \\ + 30 \\ \hline 61 \end{array}$$

Solución:

Entre los dos suman sesenta y un días.

Copia y resuelve este problema en tu cuaderno

## PROBLEMA

El mes de julio tiene 31 días.

El mes de agosto tiene 30 días.

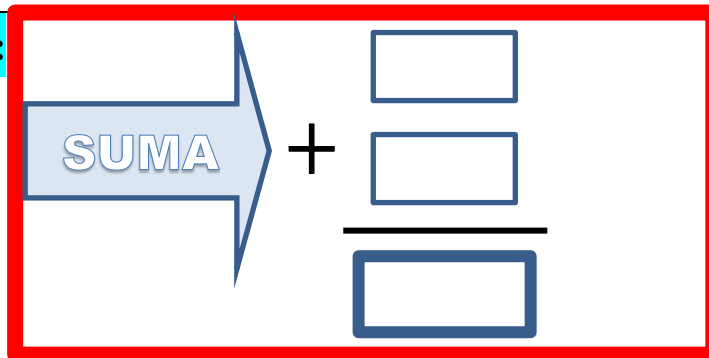
¿Cuántos días suman entre los dos?

PREGUNTA

Datos:

- El mes de julio tiene \_\_\_ días.
- El mes de agosto tiene \_\_\_ días.

Operación:



Solución:

Entre los dos suman \_\_\_\_\_ días.

¡ Escribe con letra este número !

# PROBLEMA CON SEMANAS

Copia y resuelve este problema en tu cuaderno

## PROBLEMA

El tercer trimestre tiene 10 semanas.

Ya llevamos 7 semanas de curso este trimestre.

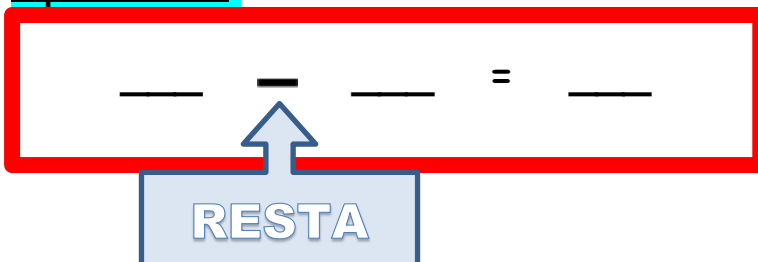
¿Cuántas semanas quedan?



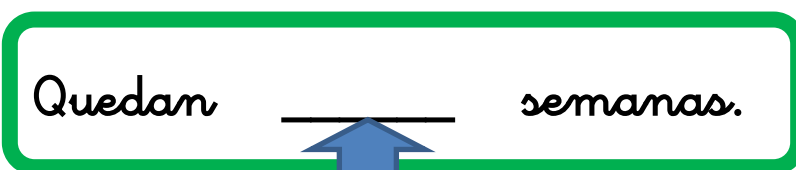
### Datos:

- El tercer trimestre tiene \_\_\_ semanas.
- Ya llevamos \_\_\_ semanas.

### Operación:



### Solución:



¡ Escribe con letra este número !

# PROBLEMA CON DÍAS Y HORAS

Copia y resuelve este problema en tu cuaderno

## PROBLEMA

El día tiene 24 horas y cada día pasamos durmiendo aproximadamente 8 horas.

¿ Cuántas horas estamos despiertos cada día ?

PREGUNTA

### Datos:

- El día tiene \_\_\_ horas.
- Pasamos durmiendo \_\_\_ horas cada día.

### Operación:

RESTA

$$\begin{array}{r} \square \\ - \square \\ \hline \square \end{array}$$

### Solución:

Estamos despiertos \_\_\_\_\_ horas cada día.

¡ Escribe con letra este número !

# PROBLEMA CON HORAS Y MINUTOS

Copia y resuelve este problema en tu cuaderno

## PROBLEMA

Una hora tiene 60 minutos.

Media hora son 30 minutos.

¿Cuántos minutos son una hora y media?

PREGUNTA

### Datos:

- Una hora tiene \_\_\_\_\_ minutos.
- Media hora son \_\_\_\_\_ minutos.

### Operación:

$$\begin{array}{r} \boxed{\phantom{00}} \\ + \boxed{\phantom{00}} \\ \hline \boxed{\phantom{00}} \end{array}$$

### Solución:

Una hora y media son \_\_\_\_\_ minutos.

¡ Escribe con letra este número !



# LETRAS MAYÚSCULAS

## letras minúsculas

Copia y completa en tu cuaderno esta tabla con los MESES DEL AÑO:

Número	Mayúscula Inicial	MAYÚSCULAS	minúsculas
1º	Enero	ENERO	enero
2º	Febrero	FEBRERO	
3º	Marzo		marzo
4º	Abril		
5º		MAYO	
6º	Junio		junio
7º		JULIO	
8º	Agosto		
9º		SEPTIEMBRE	
10º			octubre
11º		NOVIEMBRE	
12º	Diciembre		

# ACTIVIDADES ONLINE

## PROBLEMAS MATEMÁTICOS

Aquí tienes una estupenda página web donde puedes seguir jugando a resolver problemas de matemáticas:

<https://www.mundoprimeria.com/juegos-educativos/juegos-matematicas/problemas/pro-primero>

## MAYÚSCULAS Y MINÚSCULAS

Aquí hay una colección de juegos para aprender más sobre letras mayúsculas y letras minúsculas.

<http://es.tiching.com/minusculas/recursos-educativos/>