


NOMBRE: _____

RETO NÚMERO 10

Este reto consta de 5 pruebas. Las marcadas con 😊 valen 1 punto cada una y las marcadas con 😞 valen 2. Total 8 puntos. ¡Suerte!

¿Qué número falta aquí?



¿Qué signos matemáticos faltan para que el resultado siempre sea seis?



2 2 2 = 6

3 3 3 = 6

5 5 5 = 6

6 6 6 = 6

7 7 7 = 6

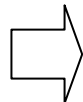


1 + 4 = 5

2 + 5 = 12

3 + 6 = 21

8 + 11 = ?



NO TE DEJES LLEVAR POR LA PRIMERA IMPRESIÓN



Si: 111 = 13

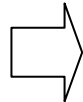
112 = 24

113 = 35

114 = 46

115 = 57

Éste: 117 = ??



NO TE DEJES LLEVAR POR LA PRIMERA IMPRESIÓN



ACERTIJO

Si en una caja de 5 docenas 3 de cada decena salen rotos

¿CUÁNTOS HUEVOS QUEDAN?



SOLUCIÓN:

OPERACIONES: