


NOMBRE: \_\_\_\_\_

## RETO NÚMERO 8

Vamos a aumentar un poco el ritmo y la dificultad. Estos retos son de recortes de prensa por lo que son para adultos. ¿A ver si sois capaces de poder con ellos?










3 puntos



1. Este camello ha recorrido, en 6 días, 198 kilómetros de desierto. Con la particularidad de que, a partir del segundo día, hacía 10 kilómetros más que el día anterior. ¿Cuántos kilómetros hizo el primer día?

1 punto

2 Cada imagen posee un valor que, sumado a las figuras de cada hilera horizontal y vertical, da como consecuencia un total que figura a la derecha o en la parte inferior del recuadro. ¿Qué números corresponden a los dos interrogantes de la parte inferior?

			240
			220
			260
?	?	240	

3 puntos



Hoy le proponemos un ejercicio sobre la fecundidad de las ardillas. Este par de ardillas, macho y hembra, se instalaron en un bosque hace un año. Cada 4 meses, todas las parejas, han triplicado su descendencia. ¿Sabría averiguar cuántas ardillas hay ahora, teniendo en cuenta que una mitad son machos y la otra mitad hembras?

1 punto

### ▶ Hombre contra máquina

Fernando y Javier estaban sentados uno frente al otro en la mesa del salón. El primero tenía una calculadora frente a él, mientras que el segundo solo disponía de lápiz y papel. Fernando tecleó la siguiente operación:

$$29 + 161 + 92$$

Javier miró la pantalla y copió la suma en su papel. Fernando dio al igual y en la pantalla apareció el siguiente resultado:

282

Al verlo Javier, dijo: «¿Cómo que 282? A mí me sale 279». ¿Cuál de los dos estaba equivocado?

ENVIAD LA SOLUCIÓN EL DÍA 8 DE MAYO DE 2020 AL CORREO E-MAIL