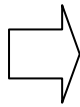



NOMBRE: _____

RETO NÚMERO 9

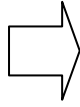
Este reto consta de 7 pruebas. La cuatro primeras valen 1 punto cada una y el resto 2. Total 10 puntazos en juego. ¡A ver si podéis con todas!


😊 ¿qué número obtendrías si multiplicaras todos sus números?







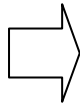
RESULTADO $1 \times 2 \times 3 \times 4 \times 5 \times 6 \times 7 \times 8 \times 9 \times 0 =$
Explica el resultado sin realizar ni una sola operación:

😊 $3 + 3 \times 3 - 3 + 3 = ?$










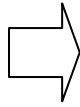
😊 $2 + 2 \times 2 + 2 - 2 - 2 =$ 

 = 2  = 3
 = 4  = 6



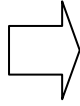
RODEA EL RESULTADO CORRECTO

😊  +  = 24
 -  = 2
 +  \times  = ?



RESULTADO =
Escribe aquí las operaciones que has hecho:

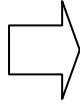
😐 $1 + 2 = 3$
 $2 + 3 = 8$
 $3 + 4 = 15$
 $4 + 15 = ?$



RESULTADO =
Explica el resultado:

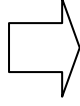
😐 ¿CUAL DE ESTOS VASOS TIENE MAS AGUA?

A B C D



RESULTADO =
Explica el resultado:

😐 PIENSALO: Usando 8 ochos, tiene que dar como resultado final 1. 000.



OPERACIÓN:

