

## TERCERO

Lunes, 1 de junio de 2020.

### LENGUA

- Corrección de los ejercicios del día anterior.
- Lectura diaria.
- UNIDAD 12: ¡SOMOS SOLIDARIOS!
- **COMPRENSIÓN LECTORA.**
  - **REPASAMOS LA POESÍA.**

#### **El músico del jardín**

*El árbol lo miraba todo,  
tenía tantos ojos como hojas  
y tenía tantos pájaros como hojas,  
(un pájaro por hoja).*

*El árbol era el músico del jardín:  
en cada hoja, cantaba un pajarín,  
en cada rama sonaba un violín.*

*A las siete de la mañana,  
empezaba el coro  
y el árbol, con sus hojas como ojos,  
lo miraba todo.*

*De pronto, se oyó su susurro.  
- ¿Cuándo vendrán los niños,  
que me aburro?  
-dijo el árbol con su voccecita de madera-.  
Los niños son para mí la primavera.*

**Gloria Fuertes**

- **Contesta en tu cuaderno:**

a) ¿Por dónde crees que veía el árbol?

b) ¿Qué música salía del árbol?

c) ¿Por qué quería el árbol que llegaran los niños?

d) ¿Por qué crees que los niños eran como la primavera para el árbol?

e) ¿Cuántos versos tiene la poesía?

f) ¿Y estrofas?

g) Copia dos versos que rimen.

h) Explica con tus palabras qué es una poesía (cómo está escrita, qué expresa el autor, que finalidad tiene el autor...).

## MATEMÁTICAS

- **Corrección de los ejercicios del día anterior.**

- **TEMA 12: LOS CUERPOS GEOMÉTRICOS.**

- Presta atención a la presentación del tema.
- Después, lee la página 182 del libro. ¡Fíjate bien en los dibujos!

### CONCEPTO DE CUERPO GEOMÉTRICO Y ELEMENTOS

**Los cuerpos geométricos son figuras que tienen tres dimensiones (largo, ancho y alto).**

**Además, ocupan un lugar en el espacio y tienen un volumen.**

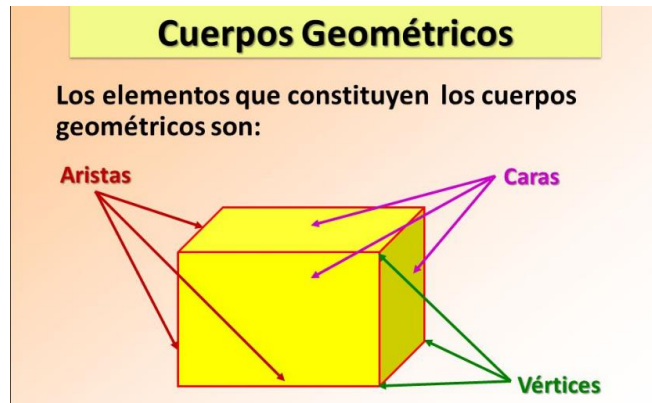


#### CUERPOS GEOMETRICOS

Un cuerpo geométrico es una figura geométrica tridimensional, es decir, que posee largo, ancho y alto, por lo tanto posee un volumen. Permiten representar algunas formas que encontramos en la realidad.

**Sus elementos son:**

- Caras:** son las superficies planas.
- Aristas:** líneas donde se unen dos caras.
- Vértices:** puntos donde se unen las aristas.



- Realiza en tu cuaderno los ejercicios 1 y 2 de la página 182.
- Haz una carilla de tu “Ya calculo”.

## SOCIALES

---

### *El imperio romano*

---

- Los romanos **conquistaron** todas las naciones del Mediterráneo.



- La **sociedad romana** en varios grupos:

-Los **patricios (nobles)**: tenían mucho poder y eran políticos y militares.

-Los **plebeyos (el pueblo)**: eran granjeros, artesanos y trabajadores. Clase social intermedia.

-Los **esclavos**: solían ser prisioneros de guerra.



- La **guerra** era una actividad muy importante para los romanos. Sus ejércitos eran enormes y estaban formados por temibles soldados llamados **legionarios**.

### Frase de la semana:



## TERCERO

Martes, 2 de junio de 2020.

### LENGUA

- Corrección de los ejercicios del día anterior.
- Lectura diaria.
- **FAMILIA DE PALABRAS.**
  - Lee con atención y copia las definiciones de familia de palabras, palabra primitiva y palabras derivada.

#### FAMILIA DE PALABRAS

Conjunto de palabras que se han formado a partir de una misma palabra primitiva. Comparten la misma raíz y tienen relación en sus significados.



**FLOR:** flor-ero, flor-ista, flor-ecer, flor-ido, ...

**PAN:** pan-adero, pan-adería, pan-ecillo, pan-era, ...

- Para entender mejor lo que estamos trabajando podéis ver el siguiente vídeo.

La Eduteca - La familia de palabras.

<https://youtu.be/HrebNoGWQ-Q>

- Realiza en tu cuaderno los ejercicios 3 y 4 de la página 193.

## MATEMÁTICAS

- Corrección de los ejercicios del día anterior.

### ¿RECUERDAS CÓMO SE NOMBRABAN LOS POLÍGONOS?

En la unidad 7 aprendimos que **los polígonos se nombran según su número de lados.**

Clasificar  
polígonos  
según sus  
lados

PRIMARIA

MATES

3  
triángulo

4  
cuadrado

5  
pentágono

6  
hexágono

7  
heptágono

8  
octógono

9  
eneágono o  
nonágono

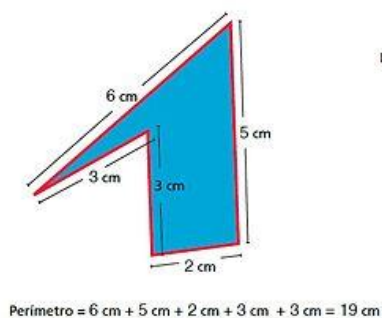
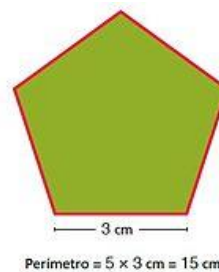
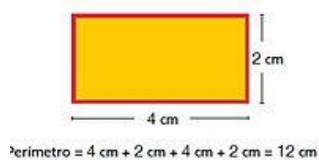
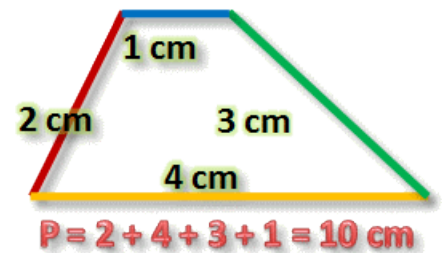
10  
decágono

11  
endecágono

12  
dodecágono

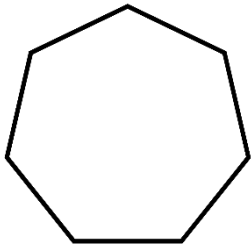
### ¿QUÉ ERA EL PERÍMETRO DE UN POLÍGONO?

El perímetro de un polígono era la suma de las longitudes de todos sus lados.

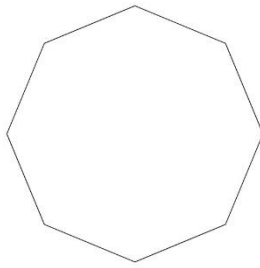


- Realiza en tu cuaderno los siguientes ejercicios.

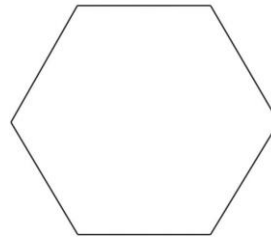
1. Nombra los siguientes polígonos:



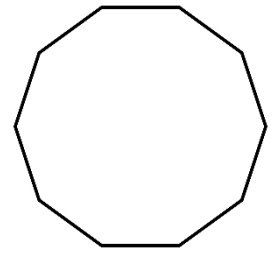
A



B



C



D

2. Calcula el perímetro de:

a) Un pentágono con todos sus lados iguales y que miden 8 cm.

b) Un rectángulo con sus lados mayores de 5 cm cada uno y sus lados menores de 3 cm cada uno.

3. Completa el término que falta:

$$\underline{\hspace{2cm}} + 1.900 = 5.000$$

$$\underline{\hspace{2cm}} \times 5 = 25.000$$

$$\underline{\hspace{2cm}} \times 100 = 70.000$$

$$\underline{\hspace{2cm}} - 725 = 3.100$$

$$\underline{\hspace{2cm}} : 9 = 23$$

$$8.900 : \underline{\hspace{2cm}} = 890$$

**INGLÉS**

*Tarea disponible en la web del cole*

## TERCERO

*Miércoles, 3 de junio de 2020.*

### LENGUA

- Corrección de los ejercicios del día anterior.
- Lectura diaria.

#### REPASO DE LOS CONTENIDOS DEL PRIMER TRIMESTRE.

- Realiza en el cuaderno los siguientes ejercicios.
  1. Escribe una oración en la que aparezca un sinónimo de “jamás” y un antónimo de “paz”.
  2. Señala el sujeto y el predicado. Además, rodea el verbo.

*Cabra es una ciudad muy bonita.*

*Por sus calles nosotros encontramos mucha alegría.*

#### 3. Completa:

Palabras	Campo semántico
<i>Goma, lápiz, estuche, libro y carpeta.</i>	
	<i>Circo</i>

#### 4. Clasifica en agudas, llanas y esdrújulas y pon las tildes necesarias.

*Helicoptero, bicicleta, tambor, campeon, dificil, pelicula.*

**Agudas:**

**Llanas:**

**Esdrújulas:**

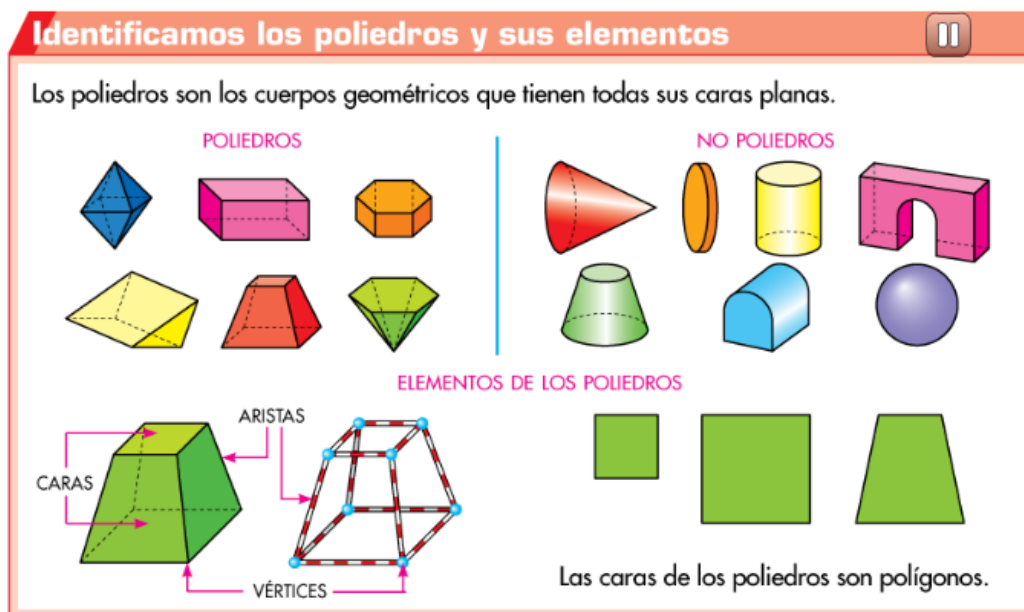


- Describe a tu deportista favorito (recuerda que en una descripción debes fijarte en cómo es físicamente y en su carácter o forma de ser).

**LA TAREA DE LENGUA DE HOY, DEBES MANDARLA,  
A LO LARGO DEL DÍA,  
AL CORREO ELECTRÓNICO DE TU MAESTRA O MAESTRO.**

## MATEMÁTICAS

- Corrección de los ejercicios del día anterior.
- LOS POLIEDROS.**
  - Presta atención a la página 184 de tu libro.



- Realiza en tu cuaderno los ejercicios 3 y 4 de la página 185.

## FRANCÉS

Tarea disponible en la web del cole

## TERCERO

Lunes, 4 de junio de 2020.

## LENGUA

- Corrección de los ejercicios del día anterior.
- Lectura diaria.
- **EL VERBO. TIEMPOS VERBALES.**
  - Lee con atención las páginas 196 y 197 de tu libro.
  - Copia en tu cuaderno el cuadrado verde de la página 196.

# El verbo: tiempos verbales

El verbo tiene tres tiempos: pasado, presente y futuro.

**Tiempo presente:**  
Indica la acción que se realiza en el momento.

**Tiempo pasado:**  
Indica la acción que se realizó.

**Tiempo futuro:**  
Indica la acción que se va a realizar.

**Además el verbo:**  
Tiene dos accidentes gramaticales: género y número.



- Para entender mejor los tiempos verbales, puedes ver el siguiente video.

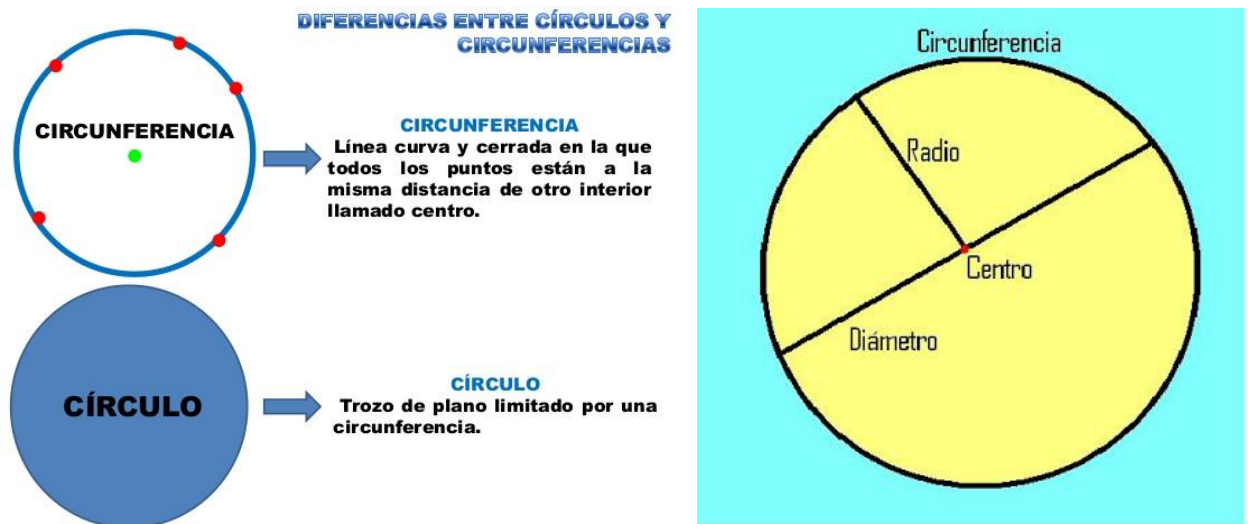
El tiempo verbal: Presente, Pasado y Futuro.  
<https://youtu.be/OrfqL0GNedk>

- Realiza en tu cuaderno los ejercicios 2 y 3 de la página 196.

## MATEMÁTICAS

- Corrección de los ejercicios del día anterior.

### REPASAMOS LA CIRCUNFERENCIA, EL CÍRCULO Y SUS ELEMENTOS.



No olvides que la **circunferencia** es la **línea curva cerrada** y el **círculo** es la **figura plana** encerrada dentro de la circunferencia.

Además, aprendimos en la unidad 7 que **sus elementos** eran:

**Radio:** segmento que une un punto de la circunferencia con el centro.

**Diámetro:** segmento que une dos puntos de la misma pasando por el centro.

$$\text{Diámetro} = \text{Radio} \times 2$$

$$\text{Radio} = \text{Diámetro} : 2$$

- Realiza en tu cuaderno los siguientes ejercicios:

- Dibuja una circunferencia de 2 cm de radio. Debes usar la regla y el compás. Después, señala sus elementos.

En la página 113 del libro (unidad 7) aprendiste a hacerlo.

- Completa:

Radio	5 cm		7 cm			25 cm
Diámetro	10 cm	18 cm		24 cm	100 cm	

- Coloca y calcula:

$$2.097 \times 68 =$$

$$7.096 : 7 =$$

## SOCIALES

---

### EDAD MEDIA

---

- Es un periodo que abarca desde

Caída del imperio

Romano



476 d.C.



Descubrimiento de

América




1492

Durante la EDAD MEDIA, se estableció un sistema político llamado FEUDALISMO. Las personas estaban divididas en SEÑORES y SIERVOS.



- En el siglo VII (7) nació en **Arabia** una nueva religión, el islam, que se extendió por muchos territorios y en la península ibérica llegó con el nombre de **Al-Ándalus**.
- En Europa aparecieron las **primeras universidades**, surgieron distintas **lenguas** (francés, castellano, italiano, etc.), se formaron los **ayuntamientos y parlamentos** y se inventó la **imprenta**.



**Frase de la semana:**



# TERCERO

Viernes, 5 de junio de 2020.

## LENGUA

- Corrección de los ejercicios del día anterior.
- Lectura diaria.
- **REPASAMOS EL CONCEPTO DE ADJETIVO Y DE PREFIJO.**

- Para entender qué son los **adjetivos**, ve el siguiente video:

Los adjetivos ¿Qué son?  
<https://youtu.be/R0afoAgbjPM>

- Los **prefijos** se colocan delante de las palabras para formar una nueva con un nuevo significado. ¡Fíjate en estos ejemplo!

PREFIJO	SIGNIFICADO	EJEMPLOS
ante-	Anterioridad de tiempo	anteayer, antepasado.
co-	Unión, participación	coautor, coprotagonista.
con-	Reunión, cooperación.	confluir, contactar.
contra-	Posición opuesta, confrontada, contrario	contraportada, contraorden,
cuasi-	Casi, no totalmente	cuasiautomático
des-	Negación, exceso, fuera de...	despeinar, deslenguado, desterrar
di-	Oposición, origen o procedencia, separación	disentir, dinamar, dilatar, divergir
dis-	Negación, contrariedad	disconforme, discontinuo
en-	En, dentro de...	encéfalo
entre-	Situación intermedia, dos o más partes, casi	entrecejo, entretejer, entreabierto
ex	Que ha dejado de ser.	exalumno, expresidente
extra-	Fuera de..., extremadamente, demasiado	extraterrestre, extrovertido

- Realiza en tu cuaderno los siguientes ejercicios.

1. Escribe un adjetivo que concuerde en género y número con el sustantivo:

- |             |       |            |       |
|-------------|-------|------------|-------|
| a) perro    | _____ | f) árbol   | _____ |
| b) ojos     | _____ | g) cielo   | _____ |
| c) sombrero | _____ | h) barbas  | _____ |
| d) delfines | _____ | i) prado   | _____ |
| e) agua     | _____ | j) hombres | _____ |

2. Dictado (mensaje de audio).

3. Localiza en el dictado los prefijos y adjetivos que aparecen.

# MATEMÁTICAS

- Corrección de los ejercicios del día anterior.

## REPASAMOS CONTENIDOS DEL SEGUNDO TRIMESTRE

- Realiza en tu cuaderno los siguientes ejercicios.
1. Dibuja una recta (r) que sea perpendicular a otra (s). Luego traza una recta (t) que sea paralela a (r) y una recta (v) que sea secante a (s).
  2. En el dibujo del ejercicio 1, señala un ángulo recto con color rojo, un ángulo agudo de azul y uno obtuso de verde.
  3. Escribe el nombre de estos polígonos:
    - 3 lados:
    - 5 lados:
    - 10 lados:

¿Cuál sería el perímetro de un heptágono que tiene todos sus lados iguales y cada uno mide 2 cm?
  4. He ido al cine con mi padre y con mi madre. La película empezó a las 17:10 h y acabó a las 19:05 h. La entrada costaba 5€ y 20 céntimos.
    - a) ¿Cuánto duró la película?
    - b) Si pagamos con 20 euros, ¿cuánto nos devolvieron?
  5. Coloca y calcula:
    - a)  $907 \times 82$
    - b)  $9.508 : 5$

**LA TAREA DE MATEMÁTICAS DE HOY, DEBES ENVIARLA,  
A LO LARGO DEL DÍA,  
AL CORREO ELECTRÓNICO DE TU MAESTRA O MAESTRO.**

# INGLÉS

*Tarea disponible en la web del cole*



PERIODO DE CONFINAMIENTO. INGLÉS 3º (DEL 1 AL 5 DE JUNIO)

Ejercicio 1. En lo que queda de curso, vamos a repasar las unidades anteriores. Las palabras siguientes ya las conocemos, escríbelas y pon al lado su significado. Si no te acuerdas de alguna búscala en el traductor.

<https://translate.google.es/?hl=es>

CAFÉ  
CÍNEMA  
FIRE STATION  
FLAT  
LIBRARY  
POST OFFICE  
SCHOOL  
DRESS SHOP  
TAKE AWAY  
BOOKCASE  
CLOCK  
DESK  
LAMP  
MIRROR  
PICTURE  
WARDROBE  
BIN  
COMPUTER  
CUSHION  
PLANT  
POSTER  
RUG  
DOOR  
WINDOW  
BED  
CHAIR  
TABLE

Ejercicio 2. Une cada oración con su significado:

WHERE'S THE POST OFFICE?	¿CÚAL ES TU NOMBRE?
WHERE'S THE CINEMA?	ME LLAMO JOHN
WHAT'S YOUR NAME?	¿TIENES UN ORDENADOR?
HAVE YOU GOT ANY BROTHERS?	¿DÓNDE ESTÁ EL CINE?
MY NAME IS JOHN	¿TIENES HERMANOS?
IS IT A TABLE? YES, IT IS	¿PUEDES ABRIR LA VENTANA?
HAVE YOU GOT A COMPUTER	¿DÓNDE ESTÁ CORREOS?
CAN YOU OPEN THE WINDOW?	¿ES UNA MESA? SÍ, LO ES

Ejercicio 3. Escribe los números de diez en diez hasta llegar a cien.

TEN...TWENTY...