



2 Lee y resuelve.

- Sonia ha organizado la visita a unas cuevas. Han ido 3 autocares con 52 personas en cada uno y 87 personas en coches. ¿Cuántas personas han ido en autocar más que en coche?

DATOS En autocar ► con personas

En coche ► personas

OPERACIONES




SOLUCIÓN

- En un depósito había 850 litros de agua. Álvaro utiliza 328 litros para llenar una piscina y 296 litros para regar. ¿Cuántos litros de agua quedan en el depósito?



DATOS , y

OPERACIONES



SOLUCIÓN