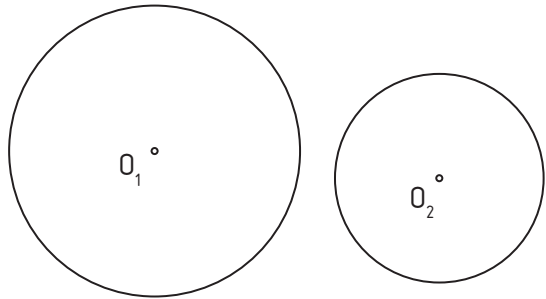
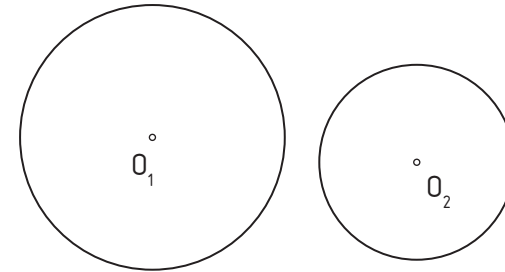


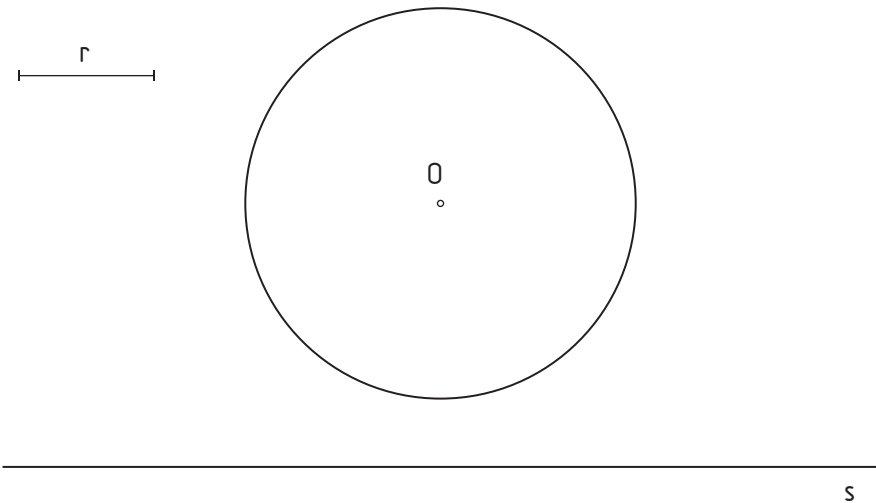
1.- Dibuja una circunferencia de **radio 20 mm**, tangente exterior a las circunferencias dadas.



2.- Las circunferencias dadas son tangentes interiores de una circunferencia de radio 50 mm, halla esta circunferencia.



3.- Trazar las circunferencias de radio  $r$  tangentes a la recta  $s$  y a la circunferencia  $O$ .



4.- Hallar las circunferencias tangentes a la recta  $r$  y a la circunferencia  $O$  en el punto  $T$ .

