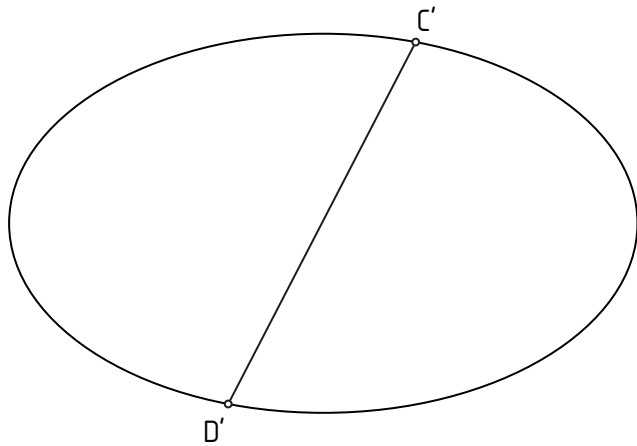
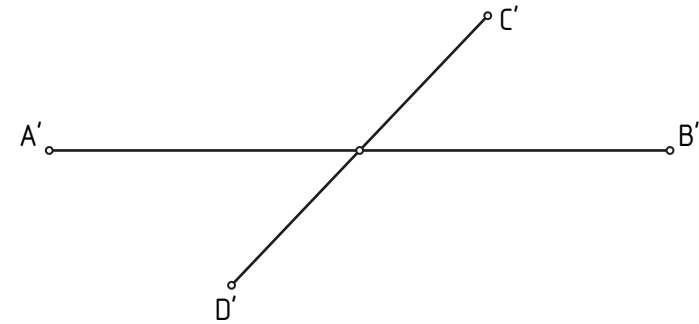


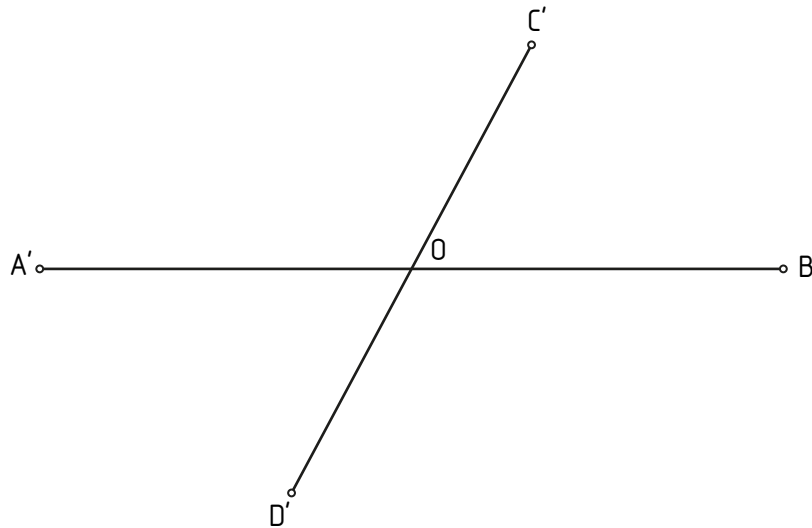
1.- Dada la elipse y un diámetro, hallar el diámetro conjugado con él.



2.- Halla los ejes de la elipse dados los diámetros conjugados.



3.- Dibuja la elipse dados los diámetros conjugados A'B' y C'D'. Utiliza el método de haces proyectivos.



4.- Usando el método de triángulos afines, traza la elipse dados los diámetros conjugados A'B' y C'D'.

