

TEMAS PARA ESTUDIAR DURANTE EL MES DE MARZO DESPUÉS DE HABER SIDO EXPLICADOS EN CLASE. SE DEBEN COMPLETAR CON EL REPASO DE LAS ACTIVIDADES REALIZADAS EN EL CUADERNO

ENTREGADA EL DÍA: 13/03/2020

LENGUA

MATEMÁTICAS

COMUNICACIÓN ORAL

TAREA 9. Contar noticias: Estudiar pasos del cuaderno. Buscar una noticia breve y ensayar en casa cómo leerla ante la clase como si fuera un periodista. *Ver*

periódico "El Gancho"

COMPETENCIA LECTORA

TAREA 16. Texto informativo y TAREA 17. El cuento: Conseguir leer diferentes tipos de textos con fluidez, entonación y buen ritmo, comprendiendo lo que lee. Utilizar el diccionario para buscar el significado de las palabras que no conoce. *Hacer*

ficha lectura comprensiva (fotocopiada)

ESCRITURA

TAREA 15. Escribir una noticia: Aprender a escribir una pequeña noticia siguiendo el modelo del cuaderno. *Hacer en el cuaderno*

TALLER DE VOCABULARIO

FICHA 5. Aumentativos y diminutivos: Estudiar los dos recuadros azules y repasar ejercicios del cuaderno. *Hacer ejercicio 4 y 8*

TALLER DE GRAMÁTICA

FICHA 6. El adjetivo: Estudiar recuadro azul y repasar ejercicios del cuaderno. *Hacer ejercicio 9.*

TALLER DE ORTOGRAFÍA

FICHA 10. Hay / Ahí: Estudiar recuadro cuaderno, repasar ejercicios del cuaderno.

FICHA 11. Mb / mp: Estudiar recuadro azul, dictado y repasar ejercicios del cuaderno.

NUMERACIÓN

FICHA 21. Las fracciones: Estudiar recuadro ejercicio 1 y repasar ejercicios del cuaderno.

FICHA 22. Las fracciones: Estudiar recuadro ejercicio 1 y repasar ejercicios del cuaderno.

CÁLCULO Y OPERACIONES

Repasar sumas con llevadas, restas con llevadas y multiplicaciones por una cifra con llevadas, parecidas a las realizadas en el cuaderno o en las fichas entregadas.

Durante este mes se debe terminar de aprender las tablas de multiplicar. *Hacer fichas fotocopiadas.*

RESOLUCIÓN DE PROBLEMAS

Repasar problemas del cuadernillo de casa y del cuaderno con los pasos de PREDAOSO. *Hacer problemas n° 28, 29, 30 y 31.*

MEDIDA

FICHA 7. El kilo y el gramo: Estudiar recuadro ejercicio 1 y 4 y repasar ejercicios del cuaderno.

FICHA 8. El litro y el centilitro: Estudiar recuadro ejercicio 1 y 4 y repasar ejercicios del cuaderno. *Hacer ejercicio 2 y 5.*

GEOMETRÍA

FICHA 10. Simetría y traslación: jugar a hacer dibujos simétricos y a hacer traslaciones en la cuadrícula de su cuaderno.

TAREA 3. Leyenda

Nombre _____ Fecha _____

La leyenda del murciélago

Hacía poco que el mundo se había creado y todos los animales parecían satisfechos con su aspecto. Sin embargo, la alegría del murciélago pronto se tornó en tristeza.

–Todos los animales que vuelan tienen plumas. ¿Por qué yo no? –se lamentaba.

Compadecidos, el águila, la paloma, el ruiseñor, el colibrí... decidieron ayudarlo, y cada uno le dio una de sus plumas.

El resultado fue magnífico. ¡No había un plumaje más hermoso en el mundo! El murciélago se sentía dichoso por su belleza. Pero, lleno de vanidad, en vez de estar agradecido a sus compañeros, empezó a tratarlos con desdén y desprecio.

Cierta día, cuando el murciélago volaba orgulloso sobre unos riscos, un extraño viento empezó a soplar y, al pasar por el cuerpo del murciélago, este empezó a perder sus hermosas plumas, una a una. Hasta que se quedó desnudo, tal cual estaba al principio.

El murciélago sintió tanta vergüenza por verse así que corrió para ocultarse en una oscura cueva. Desde entonces ahí vive y solo sale de noche para que nadie lo vea sin aquellas plumas que un día tuvo y que perdió por engreído.

LEYENDA MEXICANA (ADAPTACIÓN)



SANTILLANA

1 Contesta.

- ¿Por qué se lamentaba el murciélago al principio?

- ¿Cómo consiguió el murciélago sus plumas?

- ¿Por qué el murciélago perdió sus plumas?

2 ¿Cuándo se dice en el texto que ocurre esta historia? Marca.
 Cuando se creó el mundo. Cuando se crearon los animales.

3 ¿Qué elemento mágico hay en esta historia? Copia.
 • Una pluma extraña. • Un viento extraño. • Un pájaro extraño.

4 ¿Qué tres cuestiones explica esta leyenda? Copia.

¿Por qué los murciélagos no tienen plumas?

¿Por qué los murciélagos son negros?

¿Por qué la palabra *murciélagos* tiene las cinco vocales?

¿Por qué los murciélagos viven en lugares oscuros?

¿Por qué los murciélagos salen de noche?

5 ¿Crees que lo que se cuenta en esta historia ocurrió de verdad?
 ¿Por qué lo piensas?

6 Inventa una breve leyenda que explique una característica de algún animal.

Nombre _____ Fecha _____




• **Multiplica.**

$\begin{array}{r} 285 \\ \times 2 \\ \hline \end{array}$	$\begin{array}{r} 471 \\ \times 5 \\ \hline \end{array}$	$\begin{array}{r} 272 \\ \times 2 \\ \hline \end{array}$	$\begin{array}{r} 421 \\ \times 4 \\ \hline \end{array}$
$\begin{array}{r} 363 \\ \times 8 \\ \hline \end{array}$	$\begin{array}{r} 574 \\ \times 7 \\ \hline \end{array}$	$\begin{array}{r} 193 \\ \times 6 \\ \hline \end{array}$	$\begin{array}{r} 253 \\ \times 9 \\ \hline \end{array}$

• **Multiplica.**

$\begin{array}{r} 3427 \\ \times 8 \\ \hline \end{array}$	$\begin{array}{r} 5626 \\ \times 2 \\ \hline \end{array}$	$\begin{array}{r} 9402 \\ \times 4 \\ \hline \end{array}$	$\begin{array}{r} 6724 \\ \times 7 \\ \hline \end{array}$
$\begin{array}{r} 8012 \\ \times 4 \\ \hline \end{array}$	$\begin{array}{r} 1634 \\ \times 9 \\ \hline \end{array}$	$\begin{array}{r} 3107 \\ \times 8 \\ \hline \end{array}$	$\begin{array}{r} 2316 \\ \times 5 \\ \hline \end{array}$

• **Coloca y multiplica.**

452×3	281×5	392×2
		

• **Calcula.**

$9 \xrightarrow{\times 4} \text{ } \xrightarrow{\times 3} \text{ } \xrightarrow{\times 2} \text{ } \xrightarrow{\times 5} \text{ } \xrightarrow{\times 2} \text{ }$

$124 \xrightarrow{\times 2} \text{ } \xrightarrow{\times 3} \text{ } \xrightarrow{\times 4} \text{ } \xrightarrow{\times 5} \text{ } \xrightarrow{\times 6} \text{ }$

Nombre _____ Fecha _____

• **Suma.**

$$\begin{array}{r} 3760 \\ 864 \\ + 359 \\ \hline \end{array}$$

$$\begin{array}{r} 7497 \\ 6668 \\ + 779 \\ \hline \end{array}$$

$$\begin{array}{r} 6232 \\ 4225 \\ + 8262 \\ \hline \end{array}$$

$$\begin{array}{r} 2398 \\ 1028 \\ + 832 \\ \hline \end{array}$$

• **Resta.**

$$\begin{array}{r} 3020 \\ - 1808 \\ \hline \end{array}$$

$$\begin{array}{r} 4720 \\ - 375 \\ \hline \end{array}$$

$$\begin{array}{r} 1567 \\ - 638 \\ \hline \end{array}$$

$$\begin{array}{r} 6542 \\ - 1796 \\ \hline \end{array}$$

• **Multiplica.**

$$\begin{array}{r} 714 \\ \times 7 \\ \hline \end{array}$$

$$\begin{array}{r} 245 \\ \times 6 \\ \hline \end{array}$$

$$\begin{array}{r} 709 \\ \times 5 \\ \hline \end{array}$$

$$\begin{array}{r} 519 \\ \times 4 \\ \hline \end{array}$$

$$\begin{array}{r} 377 \\ \times 6 \\ \hline \end{array}$$

$$\begin{array}{r} 427 \\ \times 8 \\ \hline \end{array}$$

$$\begin{array}{r} 198 \\ \times 7 \\ \hline \end{array}$$

$$\begin{array}{r} 638 \\ \times 3 \\ \hline \end{array}$$

• **Coloca y calcula.**

$493 + 2.185 + 29$

$9.200 - 956$

1.546×7
