

Ficha del problema del cuadernillo escaneada por si algún niño o niña no tuviera el cuadernillo de problemas en casa. También se pueden repasar problemas anteriores cambiando las cantidades.

PROBLEMA NÚMERO 33, 34 y 35 PÁGINA 18


Y ahora, resuelve en tu cuaderno

**33** Ayer, Marta comenzó su colección de conchas de mar, y fue muy afortunada. Solo tuvo que tirar 38 porque estaban rotas, pero aún le quedaron 186. ¿Cuántas conchas recogió en total?

Datos:

- Tiró 
- Le quedaron 

Solución: Marta tiene  conchas.




**34** La familia de Jorge tiene mucha suerte en la lotería. A su tío le han tocado 52580 euros, que son 13295 euros más de los que le tocaron a su tía la semana pasada. ¿Cuánto le tocó a su tía?

Datos:



- Premio de su tío 
- Diferencia 

Solución: Le tocaron  euros.



**35** La alcaldesa de un pueblo ha pedido a un guardia que cuente las personas que entran y salen de la playa durante un día. Hasta ahora, han entrado 3562 personas, y han salido 836. ¿Cuántas personas hay ahora en la playa?

Datos:

- Han entrado 
- Han salido 

Solución: Hay  personas.