

# ACTIVIDADES DE APOYO Y AMPLIACIÓN A LA PROGRAMACIÓN

ANOTA LOS N<sup>OS</sup> QUE FALTAN

1			4		6				10
						17		19	
	12			15					
		23			26		28		30

ESCRIBE DEL 0 AL 10 : - - - - -  
DEL 10 AL 0 : - - - - -

## CUENTA Y CONTESTA

	*		*	
		*		*

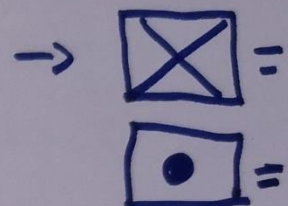
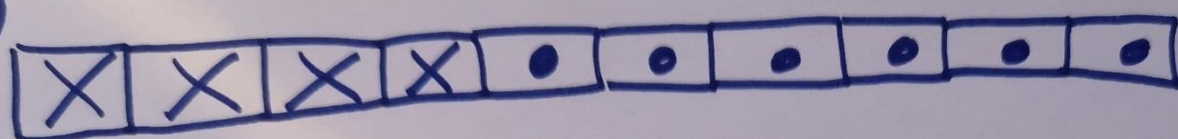
- ¿CUANTOS CUADRADOS EN BLANCO HAY?
- ¿CUANTAS \* HAY?
- ¿CUANTOS CUADRADOS HAY EN TOTAL?

## CUENTA Y CONTESTA


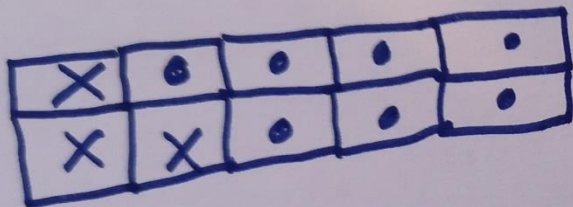
☺		☺		☺
	☺		☺	

- ¿CUANTAS ☺ HAY?
- AÑADE, PON 3 ☺ MÁS  
¿CUANTAS TIENES AHORA?
- ¿CUANTOS HUECOS QUEDAN LIBRES?

10



20




30

1		3		5
	7		9	

¿QUÉ NÚMEROS FALTAN?  
 ANOTALOS

40



• RELENA DE COLOR AZUL 3 CUADRADOS

• ¿CUÁNTOS TE QUEDAN LIBRES?