


ESCRIBE EL NÚMERO ANTERIOR Y POSTERIOR



(procedencia desconocida)

COMPLETA LA SERIE NUMÉRICA








(procedencia desconocida)

NOMBRE:

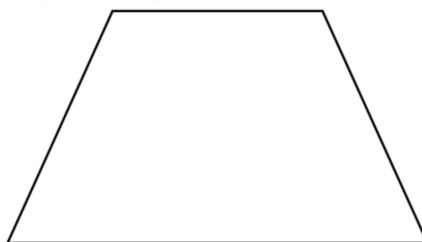
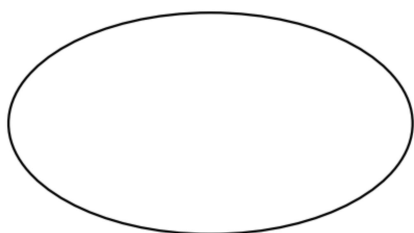
FECHA:

PINTA TANTOS ANIMALES COMO SE INDICA


4	
2	
1	
3	
0	

<http://www.librairie-interactive.com>

PEGA 4 GOMETS SOBRE CADA FORMA



PINTA DONDE HAY CUATRO PUNTOS



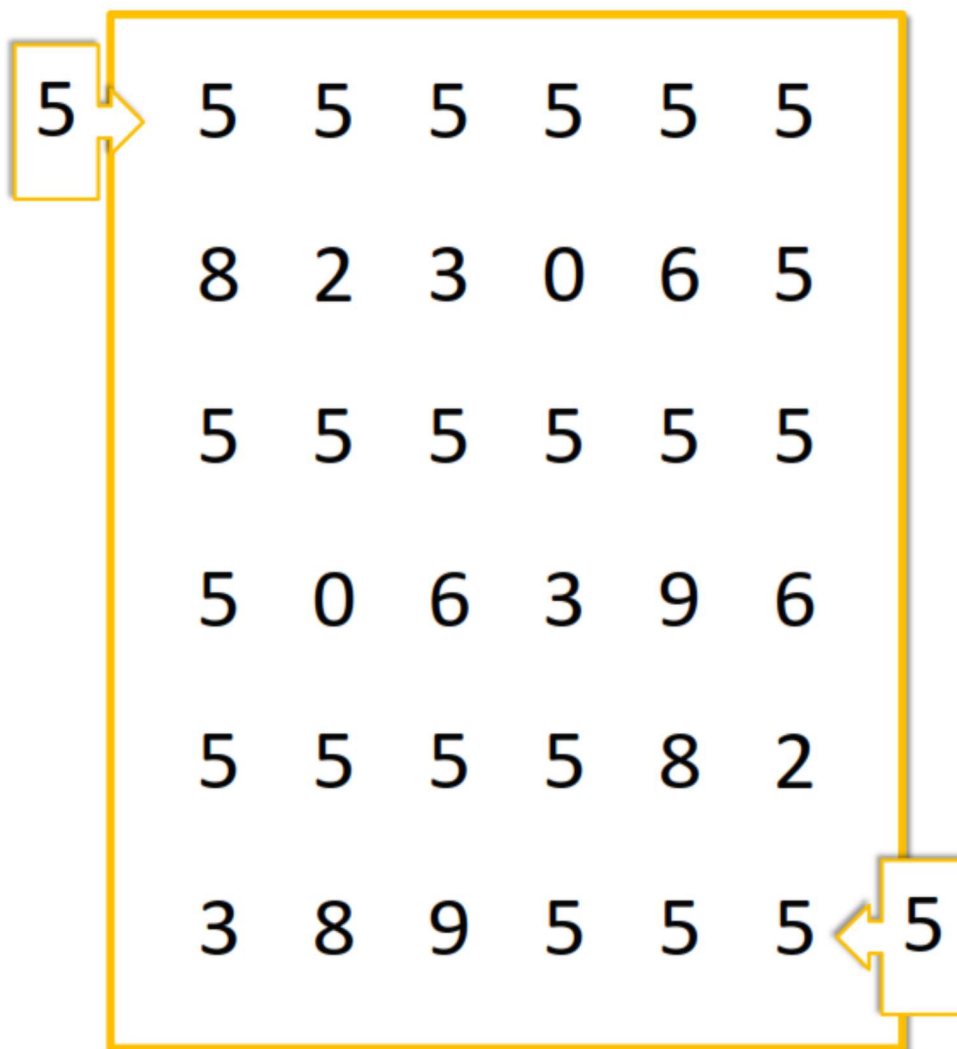
RODEA EL NÚMERO 4

4	6	0	10	4	5	30	11	10
10	5	4	8	5	4	8	4	10
17	4	10	5	16	6	9	2	8
4	5	4	18	9	5	8	16	4

NOMBRE:


FECHA:

SIGUE EL CAMINO DEL 5. REPASA EL NÚMERO 5



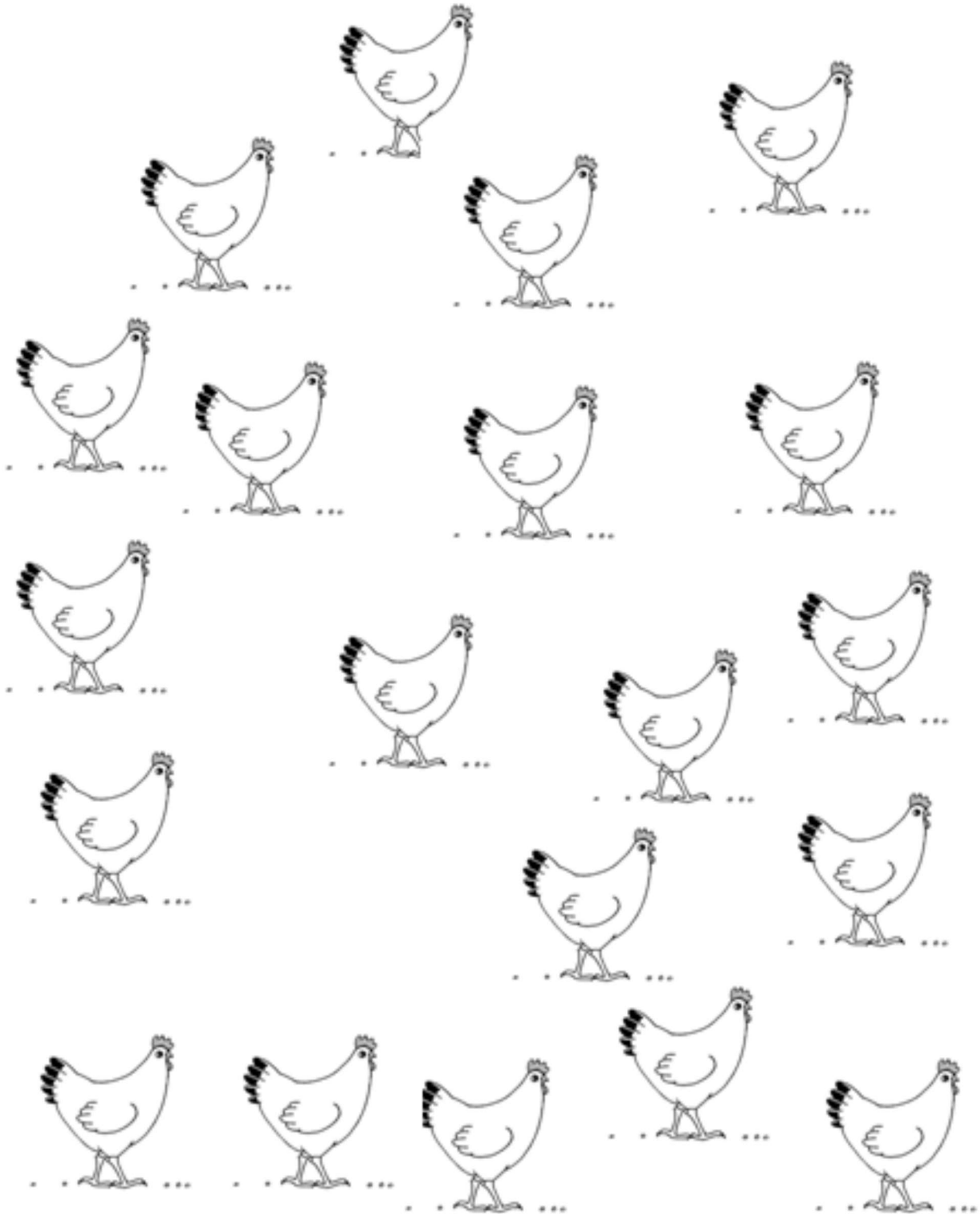
www.materialdeaprendizaje.com

ESCRIBE DEBAJO LA GRAFÍA CORRESPONDIENTE



AGRUPA LAS GALLINAS EN GRUPOS DE CINCO

5

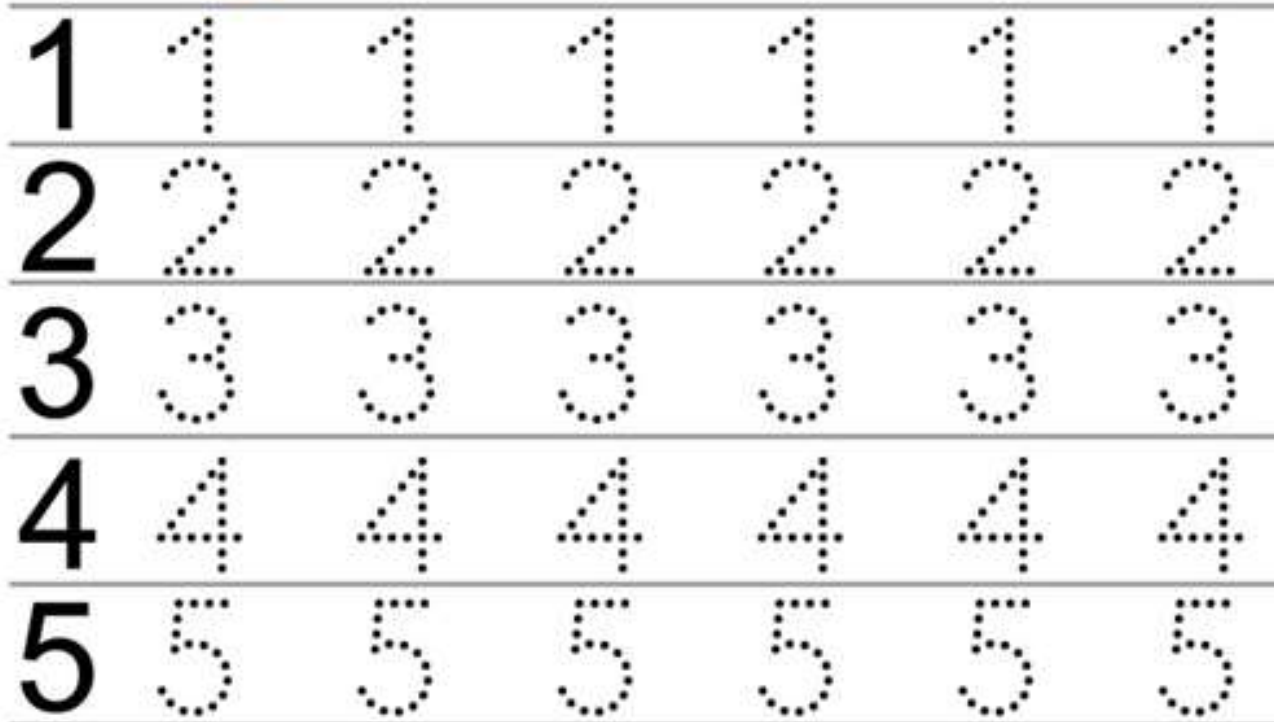


<http://www.librairie-interactive.com>

NOMBRE:

FECHA:

REPASA LOS NÚMEROS




www.razvitierbenka.com

PEGA 5 GOMETES



CONTINUA LA SERIE



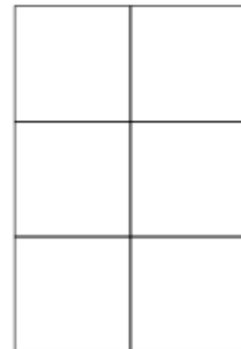

¿HACEMOS UN SUDOKU?

1	2		4
	3	1	2
3		2	
	1	4	3



Stefan Heine / Mi primer sudoku (Ed. SM)

PINTA COMO EL MODELO





3r Trimestre

- FICHA 1** | **Delante.** Grafía: Repasar la grafía del núm 5. Practicar libremente el trazo del núm 5. Repasar la grafía de la serie numérica hasta el 10 y copiarla.
Detrás. Cantidad: Pintar el número de figuras del color correspondiente.
- FICHA 2** | **Delante.** Serie numérica: Continuar la serie desde el número que se indica. Grafía: Repasar la grafía del núm 5.
Detrás. Discriminación figura-fondo: descubrir los núms 4, 5 y 6. Serie numérica: Indicar el número que falta.
- FICHA 3** | **Delante.** Grafía: Reconocimiento del núm 5. Cantidad: Realizar conjuntos de más elementos que el de muestra.
Detrás. Lógica: Sudoku. Grafía: Repasar y practicar la grafía del núm 5.
- FICHA 4** | **Delante.** Cantidad y grafía: Relacionar diferentes representaciones de los números. Lógica: Continuar las series.
Detrás. Serie numérica: Repasar la serie hasta el núm 5. Cantidad: comparar conjuntos y señalar el más numeroso.
- FICHA 5** | **Delante.** Serie numérica: Repasar la serie hasta el 6 e indicar el número que falta. Orientación espacial: Copiar los modelos.
Detrás. Cantidad: Contar y pintar regiones con 5 puntos. Cantidad: Pegar tantos gomets como se indica.
- FICHA 6** | **Delante.** Serie numérica: Indicar el número que falta. Orientación espacial: Realizar el desplazamiento indicado en una cuadrícula.
Detrás. Cantidad: Contar conjuntos y asociar la grafía correspondiente. Serie numérica: Repasar y completar la serie.

FICHA 7

Delante. Cantidad: Relacionar grafía y cantidad. Cantidad: Completar conjuntos hasta el número indicado.

Detrás. Discriminación figura-fondo: Descubrir los núms 1 a 5.
Lógica: Completar las series.

FICHA 8

Delante. Serie numérica: Unir los puntos y pintar el dibujo.
Orientación espacial: Copiar los modelos.

Detrás. Grafía: Repasar las grafías. Cantidad: Pintar las vacas con tantas manchas como se indica.

FICHA 9

Delante. Grafía: Dictado de números. Serie numérica: Repasar la serie del 1 al 10 y copiarla al revés.

Detrás. Cantidad y grafía: Completar la tabla con tantas cruces como se indica y repasar las grafías. Cantidad: Pintar conjuntos y asociar la grafía correspondiente.

FICHA 10


Delante. Grafía: Dictado de números. Cantidad: Realizar conjuntos de menos elementos que el de muestra.

Detrás. Lógica: Sudoku. Orientación espacial: Escribir el código de flechas del desplazamiento indicado en una cuadrícula.

NOMBRE:

FECHA:

REPASA EL NÚMERO 5

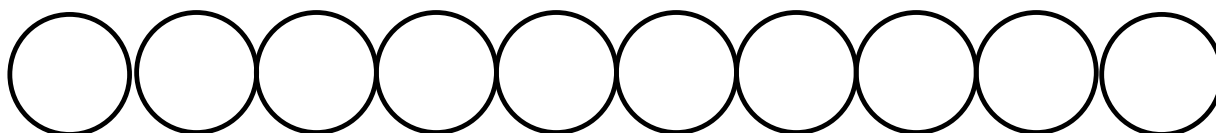


laclasedelaurene.blogspot.com

PRACTICA EL NÚMERO 5

REPASA LA SERIE NUMÉRICA Y COPIALA DEBAJO

1 2 3 4 5 6 7 8 9 10




Matemáticas 4 años. NUMERACIÓN Y ALGO MÁS... 3er trimestre. Ficha 1


La Clase de Miren (laclasedemiren.blogspot.com) // TresQuatreiCinc (marta345.blogspot.com)

PINTA SEGÚN LA CONSIGNA

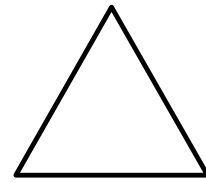
(Pide al alumno que pinte primero las tres figuras de la consigna)




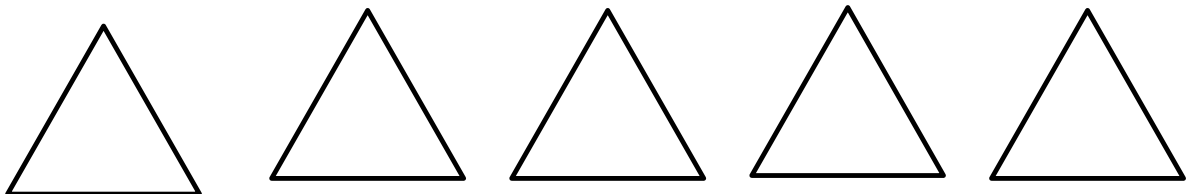
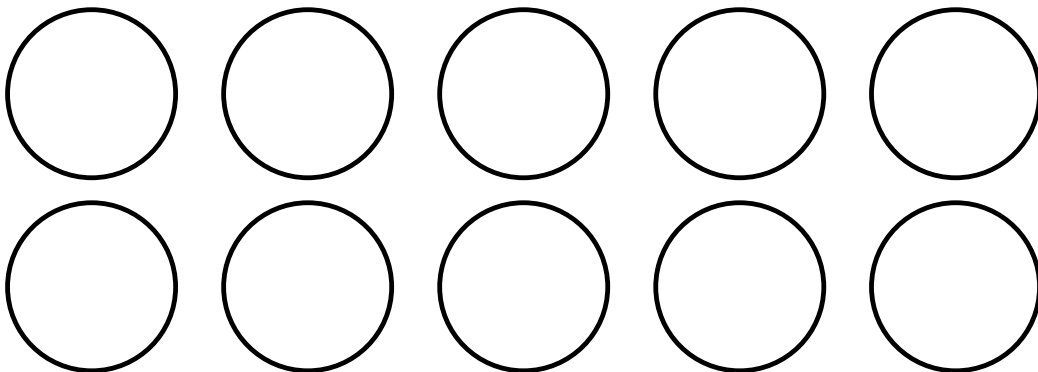

5 ROJO



4 AMARILLO



3 VERDE



NOMBRE:

FECHA:

CONTINUA LA SERIE NUMÉRICA DESDE EL NÚMERO QUE SE INDICA


1-2-3-4-5-6-7

3			
1			
2			
4			

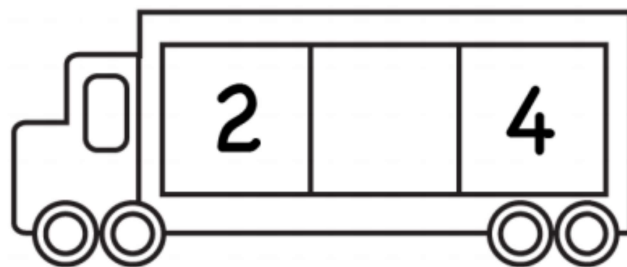
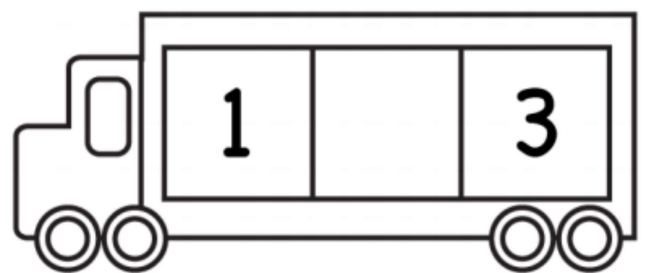
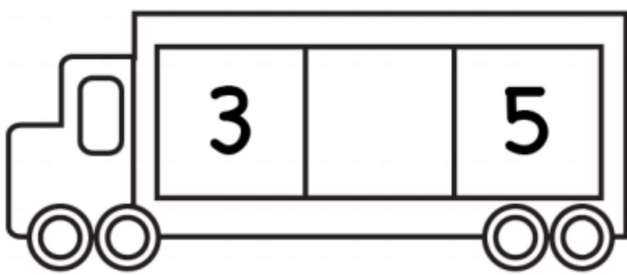
REPASA EL NÚMERO 5



PINTA EL 4, 5 Y 6



¿QUÉ NÚMERO FALTA?



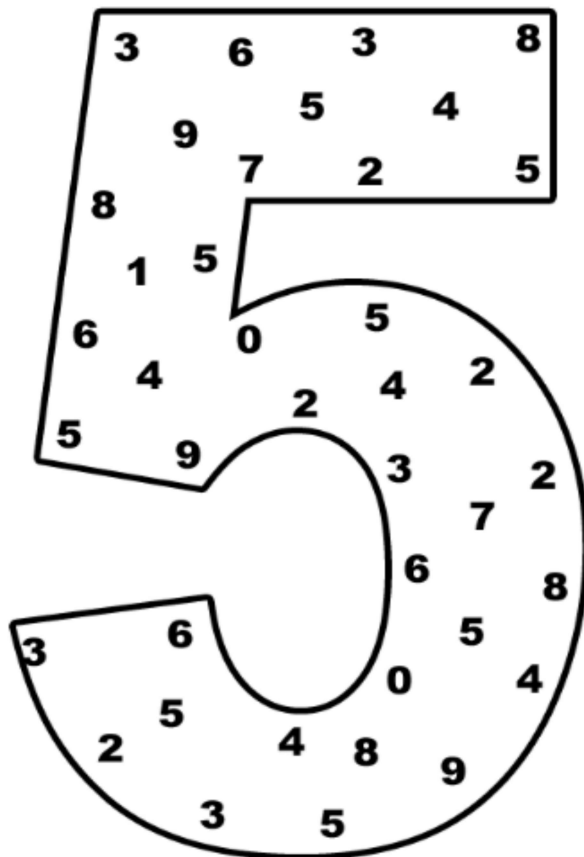
¿NECESITAS UNA PISTA?

1 2 3 4 5

NOMBRE:

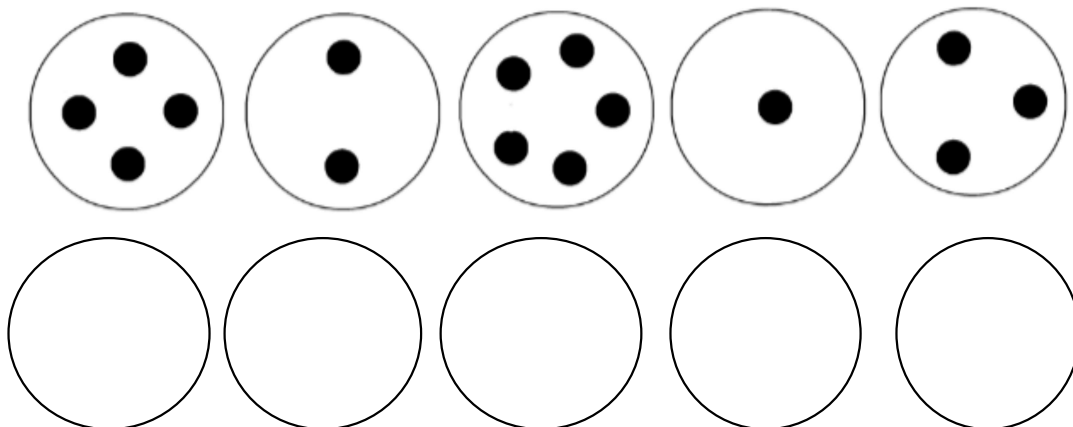
FECHA:

RODEA EL NÚMERO 5



Sheets Created by www.kidzpark.com


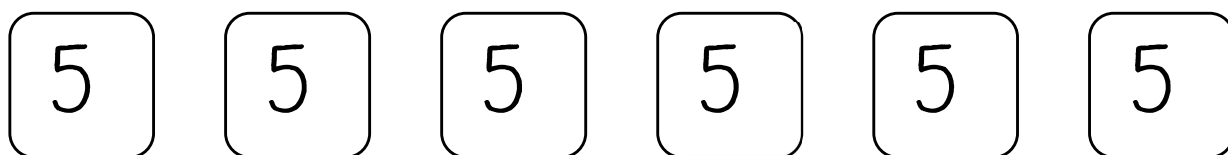
HAZ EN LOS CÍRCULOS DE ABAJO MÁS PUNTOS QUE EN LOS DE ARRIBA



¿HACEMOS UN SUDOKU?

4	3	2	
1	2		3
3	4	1	
2		3	


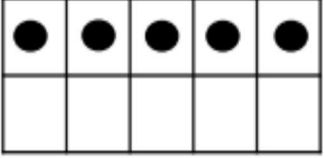
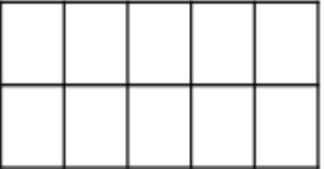
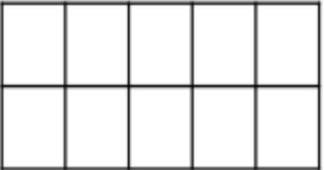

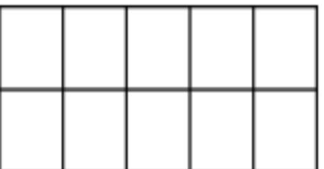

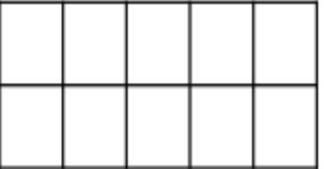
REPASA Y PRACTICA EL NÚMERO 




NOMBRE:

FECHA:

COMPLETA LA TABLA

			
	3		
		+	
			
			

CONTINUA LA SERIE






www.fiche-maternelle.com

REPASA LA SERIE NUMÉRICA

1 2 3 4 5

RODEA EN CADA CASO EL TIPO DE ANIMALES
MÁS NUMEROSO



NOMBRE:

FECHA:

SERIE NUMÉRICA DEL 1 AL 6

1 2 3 4 5 6

1		
---	--	--

	2	
--	---	--

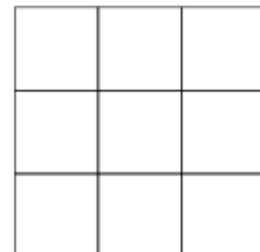
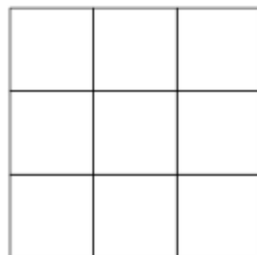
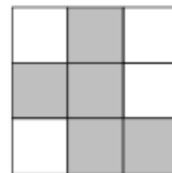
	3	
--	---	--

	4	
--	---	--

	5	
--	---	--

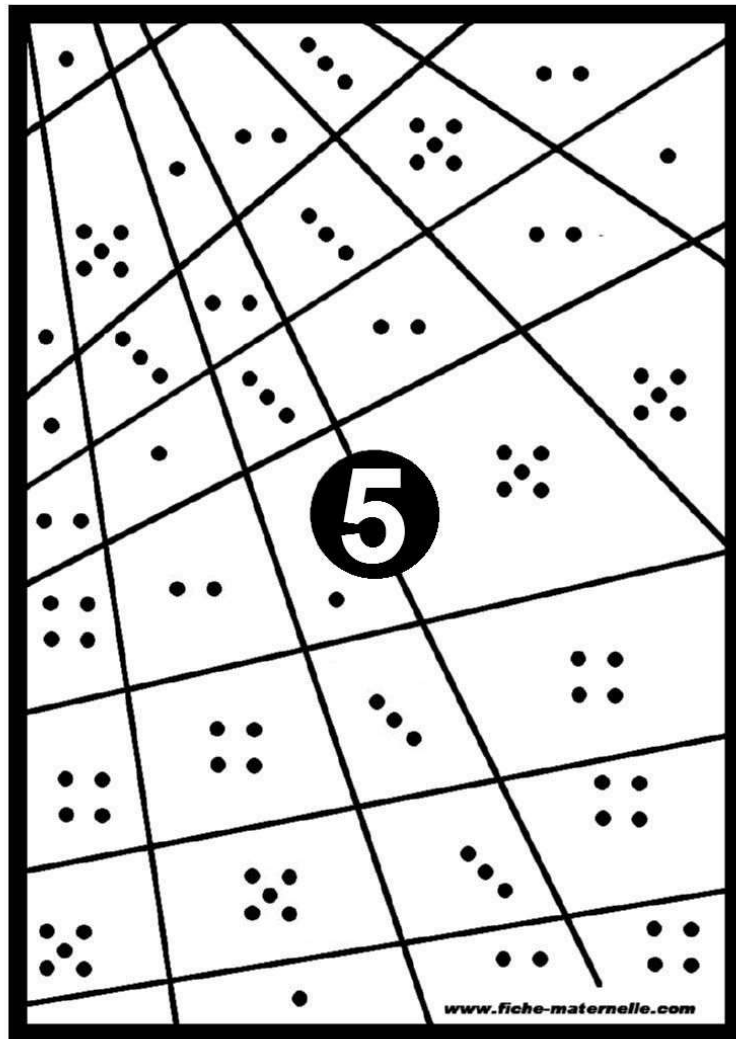
3		
---	--	--

PINTA COMO EL MODELO

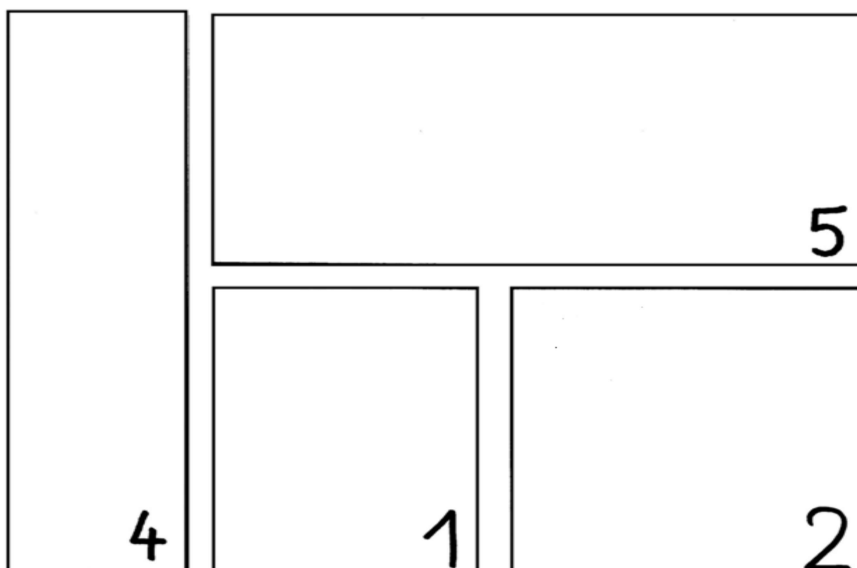


www.fiche-maternelle.com

PINTA DONDE HAY 5 PUNTOS



PEGA TANTOS GOMETS COMO SE INDICA



NOMBRE:

FECHA:

ESCRIBE EL NÚMERO ANTERIOR Y POSTERIOR

	1	
--	---	--

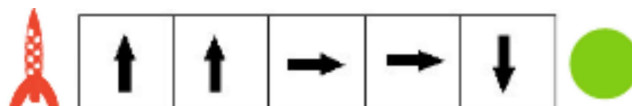
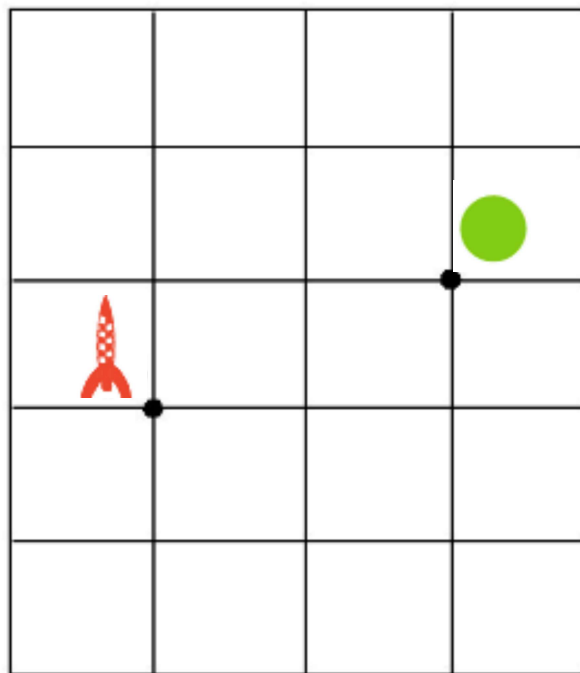
	5	
--	---	--

	2	
--	---	--


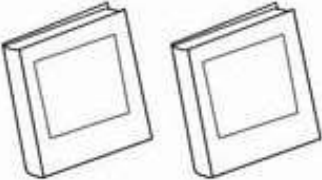
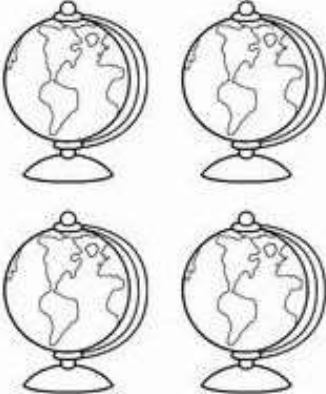
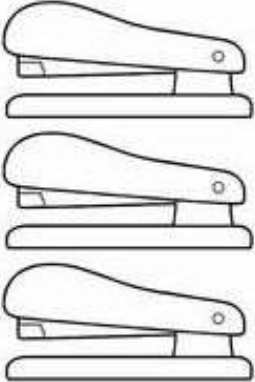
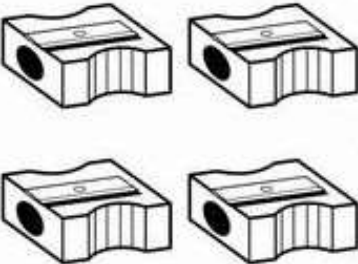
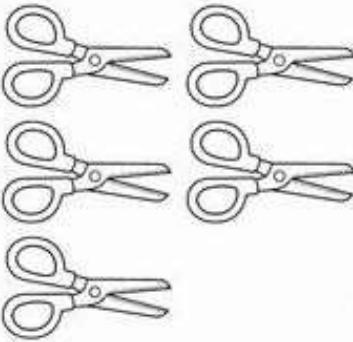
	3	
--	---	--

www.fiche-maternelle.com

REALIZA EL DESPLAZAMIENTO INDICADO



¿CUÁNTOS OBJETOS HAY?
PINTA EL NÚMERO CORRECTO

 <p>1 2 3</p>	 <p>1 2 3</p>
 <p>2 3 4</p>	 <p>2 3 4</p>
 <p>3 4 5</p>	 <p>3 4 5</p>

By Lavinia Pop © 2014

REPASA Y COMPLETA LA SERIE NUMÉRICA











5 4 3 2 1

5 - - 3 - - - -

NOMBRE:




FECHA:

RELACIONA CADA NÚMERO CON SU CANTIDAD


	1	
	2	
	3	
	4	
	5	

www.bravekidgames.com

COMPLETA CINCO OBJETOS DIBUJANDO LO QUE FALTA

			7777
---	---	--	-------------

BUSCA LOS NÚMEROS Y PINTA CADA UNO DE UN COLOR DIFERENTE



(123manía Sally Johnson / Sara Inés Gómez)

CONTINUA LA SERIE




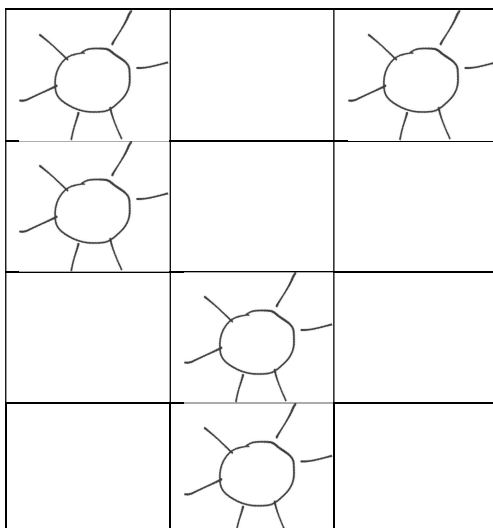
NOMBRE:

FECHA:

UNE LOS PUNTOS DEL 1 AL 10. PINTA DOS SILUETAS



REPRODUCE LOS DIBUJOS EN LA CUADRÍCULA DE AL LADO



REPASA Y PRACTICA LOS NÚMEROS

1 1 1 1 1


2 2 2 2 2

3 3 3 3 3


4 4 4 4 4

5 5 5 5 5


DIBUJA A CADA VACA TANTAS MANCHAS COMO SE INDICA




5



4



2





3

NOMBRE:

FECHA:

DICTADO DE NÚMEROS



REPASA LA SERIE NUMÉRICA...

1 2 3 4 5 6 7 8 9 10

... Y COPIALA AL REVÉS

10				6					1
----	--	--	--	---	--	--	--	--	---

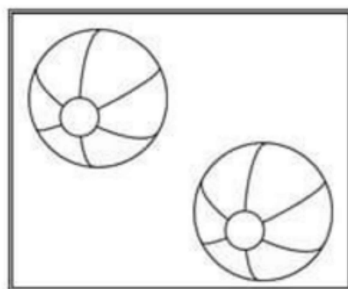
HAZ CRUCES EN LAS CASILLAS QUE SE INDICAN.
 REPASA LOS NÚMEROS

1	X							1	1	1	1
3								3	3	3	3
4								4	4	4	4
2								2	2	2	2
5								5	5	5	5

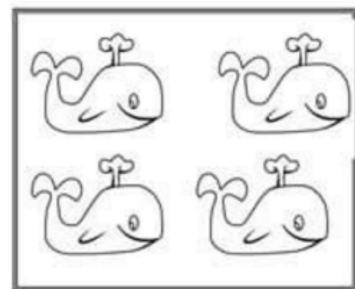
PINTA EL NÚMERO SEGÚN LA CANTIDAD DE OBJETOS
 QUE HAY




0 1 3 4



2 1 3 5




2 5 3 4



3 4 6 1

(Fuente desdñocida)



5 6 2 0




3 2 0 1

NOMBRE:

FECHA:

DICTADO DE NÚMEROS. TRAZA LOS NÚMEROS DICTADOS



Sally Johnson / Sara Inés Gómez 123 MANÍA

PINTA EN CADA CUADRADO DE ABAJO MENOS PUNTOS DE LOS QUE HAY EN EL DE ARRIBA

