

7

Nombre y apellidos:

Fecha:

Matemáticas 1.º

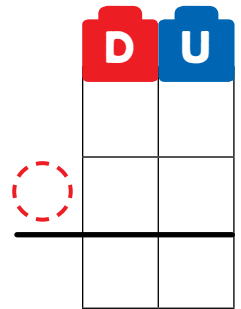
1 Anota cuántas unidades miden estas líneas rectas. ¿Cuál es la diferencia entre sus longitudes?



Una línea mide unidades.

La otra mide unidades.

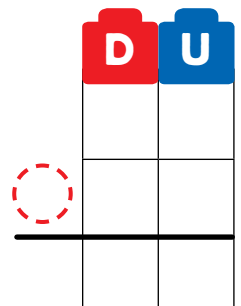
▶ La diferencia es unidades.



Una línea mide unidades.

La otra mide unidades.

▶ La diferencia es unidades.



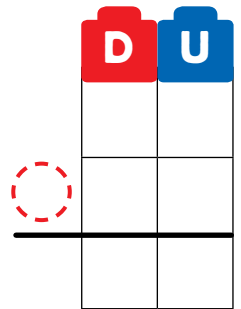
2 Anota cuántas unidades miden estas líneas rectas.
¿Cuál es la diferencia entre sus longitudes?



Una línea mide unidades.

La otra mide unidades.

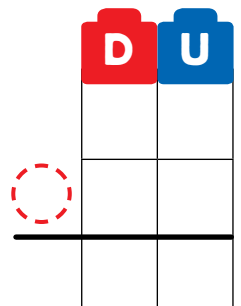
▶ La diferencia es unidades.



Una línea mide unidades.

La otra mide unidades.

▶ La diferencia es unidades.




7

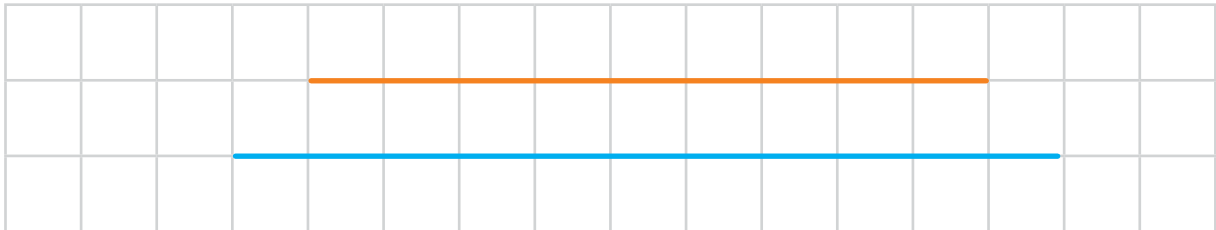
Nombre y apellidos:

Matemáticas 1.º

3 ¿Cuál es la línea más larga en cada caso?



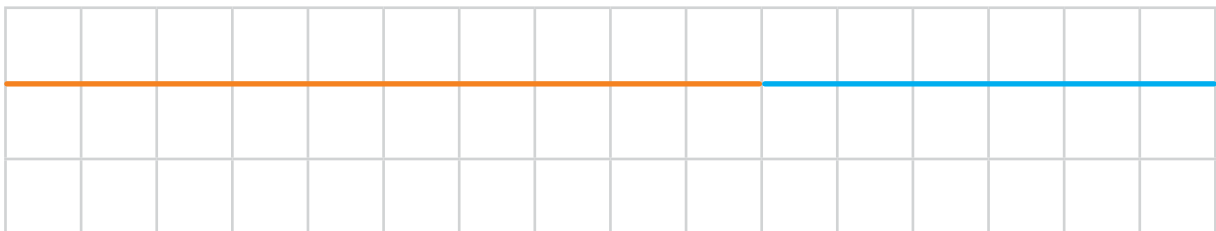
▶ La línea más larga es la



▶ La línea más larga es la



▶ La línea más larga es la

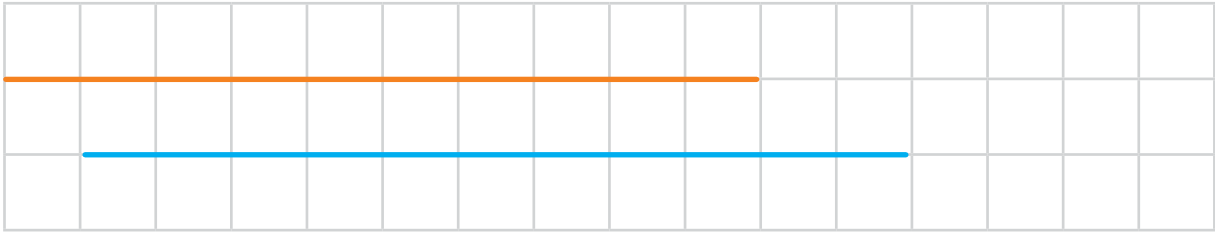


▶ La línea más larga es la

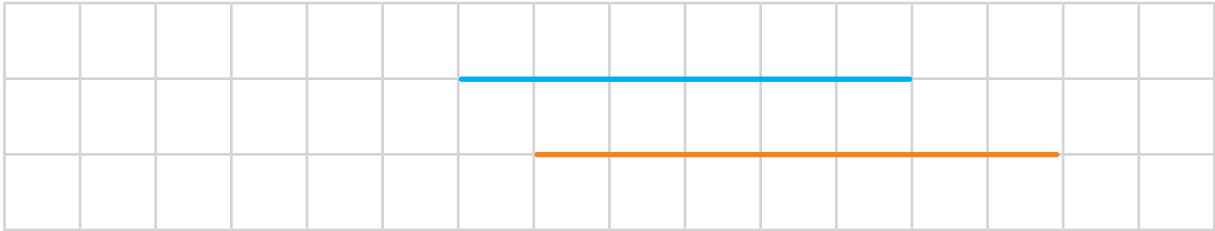
7

Nombre y apellidos:

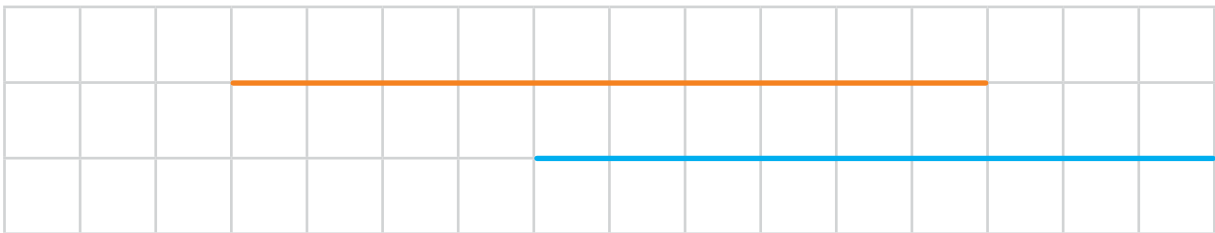
Matemáticas 1.º



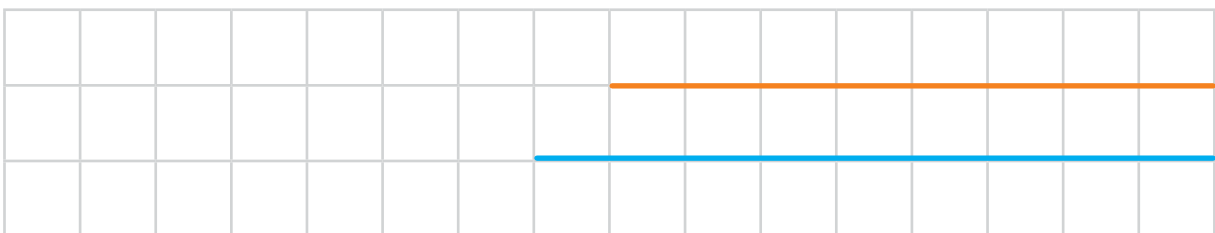
► La línea más larga es la



► La línea más larga es la



► La línea más larga es la



► La línea más larga es la