



MATEMÁTICAS PENDIENTES DE 1º ESO. U12. FIGURAS GEOMÉTRICAS.

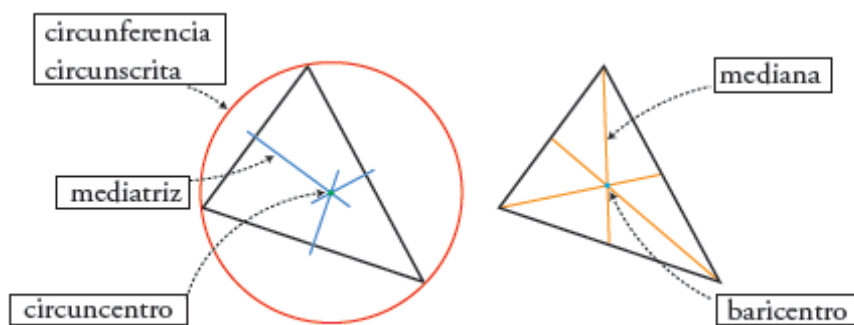
NOMBRE:

CURSO:

FECHA DE ENTREGA:

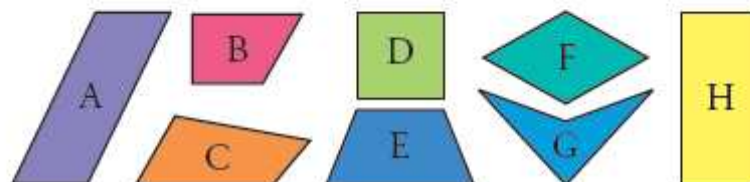
CALIFICACIÓN:

1 Indica en cada cuadro el nombre del elemento:



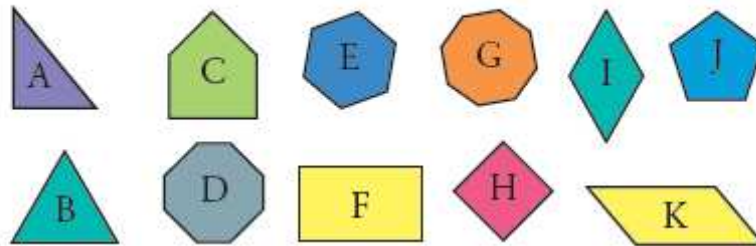
2 Identifica y nombra los cuadriláteros que:

- a) Tienen todos los ángulos iguales.
- b) Tienen los lados opuestos paralelos.
- c) No tienen los lados opuestos paralelos.
- d) Tienen los cuatro lados iguales.
- e) Tienen solo dos lados paralelos.





3 Di qué polígonos son regulares y escribe sus nombres:

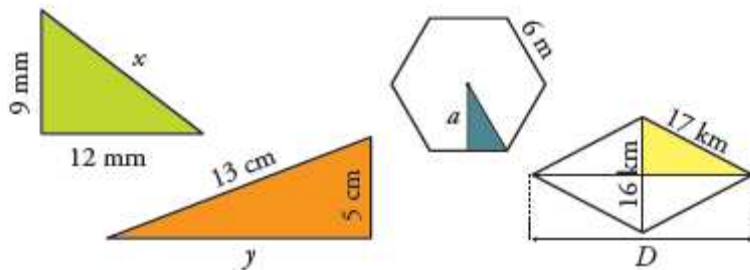


4 a) Dibuja dos circunferencias tangentes interiores.

b) Dibuja una recta tangente a las dos circunferencias.

c) Dibuja otra recta tangente a una circunferencia y secante a la otra.

5 Calcula la longitud desconocida en cada caso:



6 De los siguientes cuerpos geométricos, determina cuáles son poliedros; cuáles, cuerpos de revolución, y cuáles, ninguno de los dos. Pon nombre a los que conozcas.

