



MATEMÁTICAS PENDIENTES DE 1º ESO. U13. ÁREAS Y PERÍMETROS.

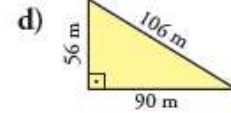
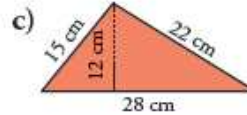
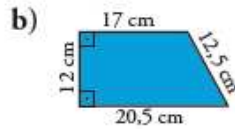
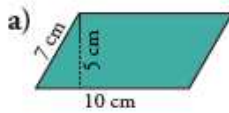
NOMBRE:

CURSO:

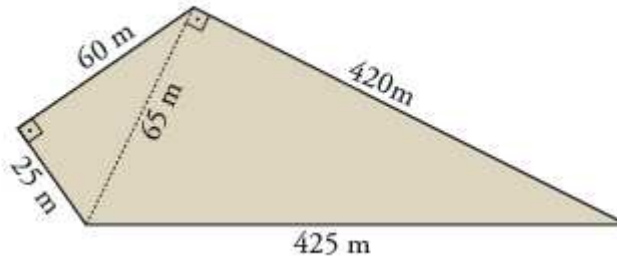
FECHA DE ENTREGA:

CALIFICACIÓN:

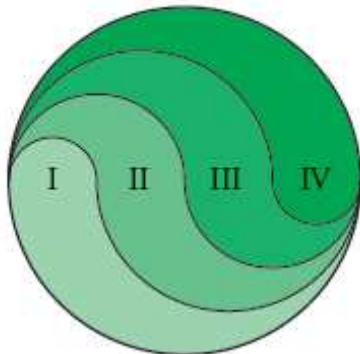
1 Calcula el área y el perímetro de cada una de las siguientes figuras:



2 Halla el área de este campo:

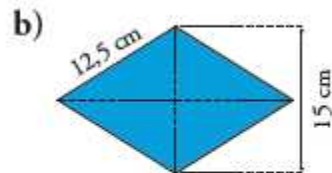
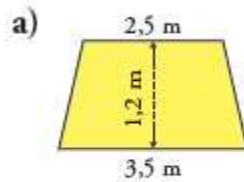


3 Halla el área y el perímetro de cada una de las cuatro parcelas de este jardín circular de 16 m de diámetro.





4 Halla el área y el perímetro de las siguientes figuras:



- c) Un hexágono regular de 8 cm de lado.
d) Un triángulo equilátero de 2 m de lado.

5 El área de esta figura es de 75 cm^2 . Calcula su perímetro.

