



MATEMÁTICAS PENDIENTES DE 2º ESO. U9. CUERPOS GEOMÉTRICOS.

NOMBRE:

CURSO:

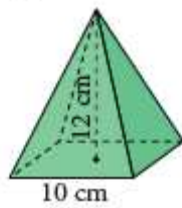
FECHA DE ENTREGA:

CALIFICACIÓN:

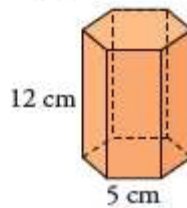
Halla el área total de los siguientes cuerpos:

1

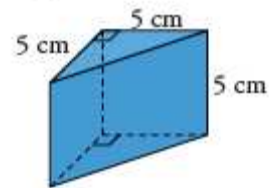
(a)



(b)

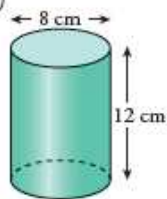


(c)

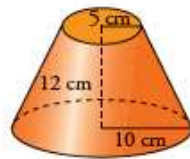


2

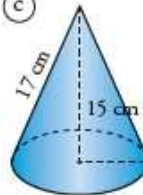
(a)



(b)



(c)



(d)



(e)

