



# TEMPORADA 1 - PROGRAMA 1

Ejemplo

Magia empieza con M y termina con T.  
¿Cómo explicas esto?

¿Qué fotografía de Albert Einstein NO puede ser real?



90%

¿Cuál de estas vocales al girarla se convierte en una consonante?

a e i o u

80%

Quando este reloj consume menos es a las 11:11 porque solo tiene 8 segmentos de luz iluminados para formar los números. ¿A qué hora habrá un mayor número de segmentos de luz encendidos?

11:11

**A**

06:56

**B**

08:08

**C**

09:30

70%

Estas dos niñas son gemelas idénticas, si te fijas en la imagen verás algo que las hace distintas. ¿Qué es?




60%

Si te CENTRAS, sabrás qué le ha regalado este grupo de amigos a Marta por su cumpleaños.

ELI  
MAITE  
PABLO  
JORGE  
BARTOLOMÉ

50%

En la feria nos prometen un peluche si logramos sumar 17 puntos exactos derribando 3 patos, ni uno más ni uno menos. ¿Qué 3 patos debemos alcanzar?



45%

Si eliminas todas las sílabas SA de esta frase descubrirás un mensaje secreto que te dice UNA PALABRA que has de responder.

SASISA SATOSADAVÍASA  
SAESSATÁS  
SAJUSAGANDOSA  
SARESSAPONSADE SÍSA

40%

¿Cuál es la figura que continúa la secuencia?



A



B



C



35%

Si ordenas las palabras de esta cita alfabéticamente, ¿cuál es la tercera?

**Primero sé libre;  
después pide  
la libertad**

30%

Víctor vive en Gijón, Joel en León,  
Hugo en Burgos, María en Ávila,  
y Pablo en Roma. ¿Dónde vive IVÁN?

A

CÁDIZ

B

MURCIA

C

VIGO

D

ELCHE

25%

¿Qué imagen NO encaja?

A



B



C



D




E



20%

¿Qué número debería aparecer en la última ficha del dominó?



Ayer no fue domingo, hoy no es el día siguiente al lunes, ni es miércoles ni jueves, y mañana no será sábado ni domingo. Entonces, ¿qué día de la semana es hoy?



Sin contar el cuello, las mangas y la cintura, ¿cuántos agujeros tiene, como mínimo, esta camiseta?



Mirando estas dos imágenes resuelve cuánto tiempo de partido queda exactamente.



**TIEMPO RESTANTE**

