


ENIGMAS



¿Dónde estoy?

Sigue las pistas para saber dónde me encuentro:

- 1.- Desde donde me encuentro veo otras tres torres.
- 2.- En un único movimiento puedo alcanzar la casilla e4.
- 3.- Soy capaz de alcanzar la ubicación de la estrella en dos movimientos.


SOLUCIÓN:



Serpientes matemáticas

Atrapa las serpientes según el valor de las operaciones, de menor a mayor, y sin pasar dos veces por la misma casilla.

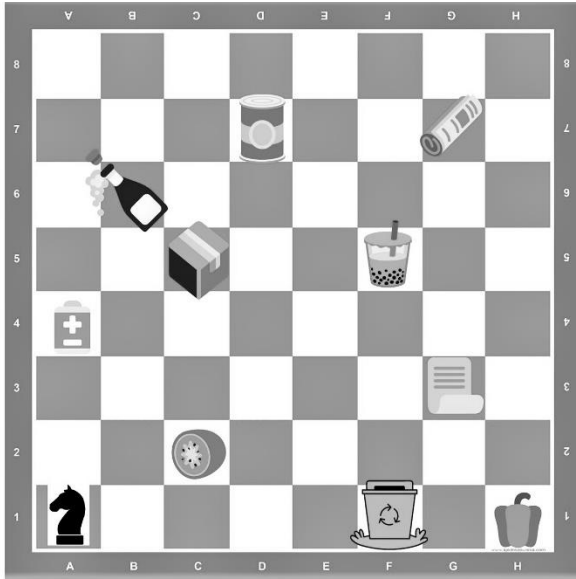
MOVIMIENTOS:



Consigue los objetos

Consigue todos los objetos anotando los movimientos de la torre.

MOVIMIENTOS:




¿Reciclamos?

Mueve el caballo y lleva el papel y el cartón hasta Cartúnez sin pasar por las casillas ocupadas.

MOVIMIENTOS:

JAQUE: En las siguientes posiciones marca si el rey está amenazado. Si es así, rodea la pieza que le está dando jaque.



Dale de comer al caballo

¿Qué comida te parece que alcanzará antes el caballo, la de g3 o la de d1?

¿Cuántas jugadas necesitas para llegar a g3?

¿Cuántas jugadas necesitas para llegar a d1?