

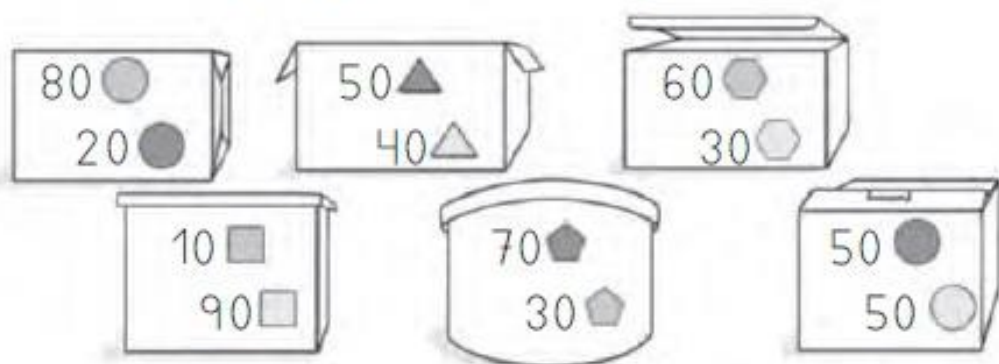
Prueba de control 7

Nombre _____ Fecha _____

1 Escucha el dictado y escribe los números.

○ ○ ○ ○ ○ ○ ○ ○

2 Colorea las cajas que tienen 100 piezas.



Mate+


3 Escribe el nombre de cada número y relaciona.

100 _____

52 _____


120 _____

60 _____



4 Escribe cada número en su lugar.


84 - 50 - 110 - 93 - 160 - 120 - 79 - 61 - 140




Colorea los números que tienen 1 centena.

5 Suma.

$$53 + 28$$




$$47 + 32 + 15$$




Mate+

6 Resta.

$$72 - 51$$



$$58 - 16$$



$$95 - 43$$

